

【地理科:康軒版本第 1-2 課,第 1-16 題,每題 2 分;共 32 分】

1. 非洲的經濟活動主要以第一級產業為主，受到自然環境的影響，各地的產業形態不盡相同。請問：下列產業活動的配對，何者正確？

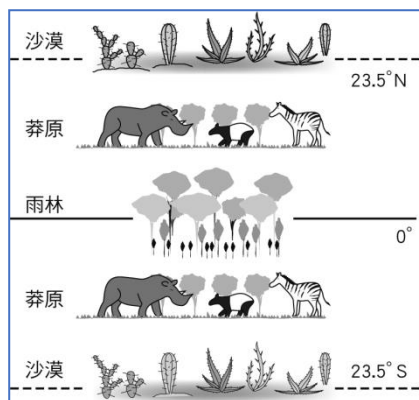
- (A)熱帶雨林—游牧 (B)河谷兩岸—灌溉農業
 (C)熱帶沙漠—游耕 (D)溫帶沙漠—地中海型農業。

2. 有句廣告詞：「鑽石恆久遠，一顆永流傳。」描述了鑽石的珍貴。世界上的鑽石主要盛產於非洲，歷史上，非洲也因此遭受歐洲列強的掠奪。請問：非洲礦產豐富的主要原因與下列何者的關係最密切？

- (A)地質古老 (B)沙漠廣大
 (C)高原地形 (D)赤道橫貫。

3. 右圖為非洲動植物景觀的分布圖，圖中顯示，在非洲南部和北部的動植物景觀極為相似，此與下列哪一個因素最相關？

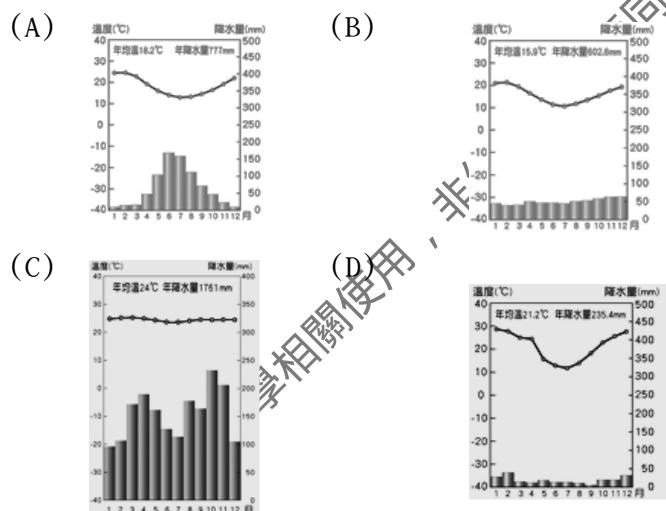
- (A)非洲的面積廣大
 (B)非洲的地質古老
 (C)四週有海洋環繞
 (D)赤道橫貫非洲中部。



4. 東部非洲由於氣候的關係，有廣大的草原供野生動物活動，但因季節性降雨的因素，動物的水草不足時便需要大遷移，形成相當壯觀的景象。請問：位於北半球的肯亞通常在幾月分出現動物向南遷移的情況？

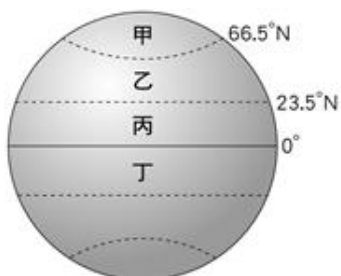
- (A) 1 月 (B) 4 月
 (C) 7 月 (D) 10 月。

5. 非洲的面積雖大，但受緯度影響，以熱帶氣候為主。請問：下列哪一種氣候是非洲最宜人的氣候類型？



6. 小文在她的寒假旅遊日記中寫到：「從臺灣來到帛琉度假，已經是第三天了，這裡雖然跟臺灣的季節一樣，但因緯度低，不但有美麗的珊瑚礁，還有蕉風椰雨的小島風情，每天豔陽高照，皮膚都曬黑了！」由文中描述可知，帛琉主要分布在右圖中的哪個氣候區？

- (A)甲 (B)乙
 (C)丙 (D)丁。



7. 南極為全世界最冷、風速最大的地區，但由於有難得一見的極光、冰河地形，還有觀察企鵝、賞鯨等生態活動，近年來吸引許多遊客前往南極旅遊。請問：若要前往南極旅遊，應該從哪一個國家出發距離最近？

- (A)埃及 (B)澳洲 (C)阿根廷 (D)南非共和國。

8. 紐西蘭由於氣候濕潤，牧草豐富，畜牧業極為發達，又由於人力不足，多採取放牧牛羊的方式。「相較於羊群，牛隻多棲息在較溼潤的開闊林地吃草或樹葉。」根據此一條件判斷，右圖中何處較適合牧牛？



- (A)甲 (B)乙 (C)丙 (D)丁。

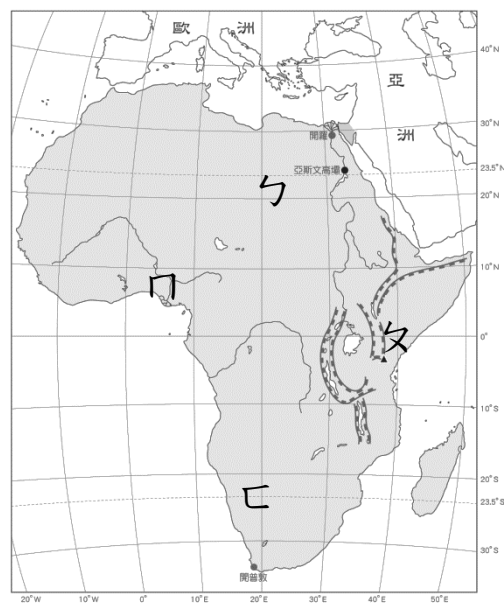
9. 阿凱一家人計畫在他畢業後出國遊玩，他想體驗刺激的高空彈跳，造訪電影「魔戒」中的場景—哈比村，並欣賞毛利人的戰舞。請問：下列哪一個國家能滿足他的願望？

- (A)紐西蘭 (B)摩洛哥 (C)澳洲 (D)挪威。

10. 北極地區由於蘊含石油、天然氣等資源，又是鄰近地區往來的捷徑，交通、軍事地位重要，因此受到各國的重視，如：俄羅斯曾派出迷你潛艇，潛入北極點的深海，並插上特製國旗，以宣示該國主權，因而引起「周圍國家」的不滿。請問：上述「周圍國家」最「不可能」是哪一國？

- (A)挪威 (B)埃及 (C)美國 (D)加拿大。

※非洲北部緊臨歐洲，東北部與西亞相鄰，在地理大發現時期，北非曾為歐洲的殖民地，西亞的文化亦傳至非洲。請依下圖回答 11-13 題：



11. 若從西班牙要前往波斯灣，走最短的水路，依序會經過哪些海域？(甲)蘇伊士運河(乙)麻六甲海峽(丙)太平洋(丁)直布羅陀海峽(戊)地中海(己)紅海；正確的是：

- (A)丙乙戊甲 (B)戊丙己乙
 (C)丁戊甲己 (D)甲丙己丁。

12. 非洲火山活動最活躍的地區位於圖中何處？

- (A)甲 (B)乙 (C)丙 (D)丁。

13. 「古埃及文明的發源地，也是埃及人賴以生存的農業地帶，被稱為該地區的生命泉源。」以上所描述的河川，應該位於圖中哪一個地區？

- (A) ㄅ (B) ㄆ (C) ㄇ (D) ㄋ。

※澳洲的全名為「澳大利亞」，原意為「南方大陸」。

下圖為澳洲簡圖，請依圖回答 14-16 題：



14. 新聞報導：「著名的鱷魚先生在澳洲東部海洋出外景時，被海中的魷魚刺中心臟，因此不幸喪命。」請問：鱷魚先生當時所在的位置最可能位於下列哪個海洋？

- (A) 北極海 (B) 大西洋
(C) 印度洋 (D) 太平洋。

15. 小瑛利用假日前往澳洲首都坎培拉，參加一年一度的春季花卉節，該活動有南半球最大型花卉節慶的美譽。她在拜訪當天也是臺灣某個重要節日。請問：小瑛最有可能在臺灣的哪個節日前往坎培拉？

- (A) 春節 (B) 清明節
(C) 中秋節 (D) 聖誕節。

16. 近年來環保的議題受廣大民眾的關心，如：臺灣公投聯署搶救大潭藻礁；在澳洲，也因全球暖化使大量珊瑚白化死亡，而引起全球的關注。若要實地探查澳洲珊瑚的現況，應前往圖中的哪個地點？

- (A) 甲 (B) 乙 (C) 丙 (D) 丁。

【歷史科：康軒版本第 1-2 課，第 17-33 題，每題 2 分；共 34 分】

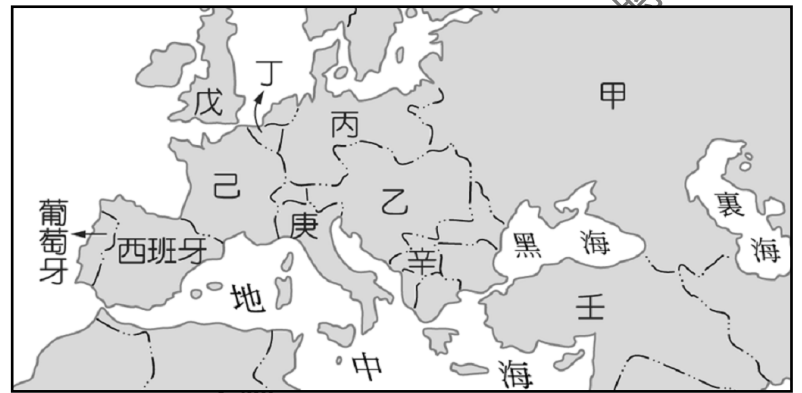
17. 非洲國家的國旗用色大都非常相似，採用黃、綠、紅為主色調，其實這是所謂的「泛非顏色」，起源於某個東非文明古國，擁有悠久的歷史文化，也是帝國主義時期少數未被佔領的國家，故 20 世紀非洲國家獨立後便紛紛效仿採用這些顏色。請問這個國家最有可能是下列何者？

- (A) 奈及利亞
(B) 衣索比亞
(C) 保加利亞
(D) 賴比瑞亞

18. 「戰爭的爆發伴隨著整個帝國境內大規模的處決、攻擊、對教堂的破壞和對雅典人民財產的掠奪。最嚴重的暴行是發生在首都的『1821 年君士坦丁堡大屠殺』，儘管正教會領導人格里戈里奧五世公開反對起義，他仍被蘇丹處決。這一事件在整個歐洲引起了公憤，越來越多的人開始支持叛軍……。」請問以上敘述中的叛軍對抗的應是哪一個國家？

- (A) 神聖羅馬帝國
(B) 奧匈帝國
(C) 鄂圖曼土耳其帝國
(D) 德意志帝國

19. 下圖是第一次大戰時期的歐洲地圖，按此地圖所寫的相關敘述中，請問正確的有哪幾項？(壹)塞拉耶佛事件引發丙丁的衝突(貳)同盟國陣營包括乙丙辛(參)協約國陣營包括甲戊己(肆)戊因為無限制潛艇政策而參戰(伍)壕溝戰主要發生在丙己的邊界



- (A) 壹貳 (B) 貳參 (C) 參肆 (D) 參伍

20. 右表為義大利統一大事記，請問表格中「？」應該填上以下何事件最為合理？

時間	事件
1831 年	青年義大利黨成立，爭取國家統一
1848 年	薩丁尼亞王國開始統一活動
1859 年	取得倫巴底，大致完成北部統一
1860 年	南部完成統一
1861 年	？
1866 年	取得北部威尼西亞
1870 年	取得羅馬，完成統一

- (A) 普法戰爭爆發
(B) 義大利王國成立
(C) 倡議組關稅同盟
(D) 加入三國同盟

21. 以下是 1823 年美國提出的某項陳述：「…歐洲各國不能再以任何美洲國家為殖民地，美國將視任何殖民美洲的企圖為對美國之國安威脅。……在外交政策上，美國未來將僅在本身利益受損的前提下介入歐洲事務。……」。請問此陳述與何事件最為相關？

- (A) 拉丁美洲反抗西班牙統治
(B) 美國參加第一次世界大戰
(C) 一戰後美國興起孤立主義
(D) 瓜分風潮與門戶開放政策

22. 右圖是 18 世紀在日本出版的《紅毛雜話》當中有關顯微鏡的介紹，有關這本書籍的討論，下列何者為是？



- (A) 這些西方知識是葡萄牙人從長崎傳入日本
- (B) 此時幕府實施鎖國，應是由南方九州傳入
- (C) 美國傳入此新知後引發地方尊王攘夷運動
- (D) 當時推行明治維新，大規模引進西方新知

23. 「西元 1815 年，國內有 62 種稅制，同時鄰國們也高築稅壘，使各國之間貨品不能暢銷，妨礙工商業發展，國有鑑於此，率先統一稅率，並邀請鄰近各國加入，一同組成團體降低稅率，有助於貿易往來、減少內部競爭」請問與以上敘述最適切相關的主題應為何者？

- (A) 邁向統一的普魯士
- (B) 新帝國主義的侵略
- (C) 薩丁尼亞富國強兵
- (D) 歐洲火藥庫的動盪

24. 學校老師要求同學去參觀「燃燒的靈魂—梵谷」特展並繳交心得報告，收齊作業後老師卻發現很多同學都沒有實際去參觀導致內容錯誤百出，請找出以下哪一位同學「真的」有去看展覽？

- (A) 甲：用幾何線條展現多重立體的角度，真是驚人！
- (B) 乙：描繪鄉村農民的樸實細膩筆觸，令人印象深刻！
- (C) 丙：人物表情生動，充滿了戲劇效果的情感張力！
- (D) 丁：強烈的色彩營造出絕佳的光影對比，令人難忘！

25. 以下是戰後某條約的部分內容：「壹、領土變更：亞爾薩斯與洛林兩省交予法國；承認波蘭獨立、承認捷克獨立；貳、海外託管地：放棄海外殖民地及各種權利；參、軍事限制：陸軍兵員限額 10 萬，海軍削減並不得擁有潛水艇、軍用飛機等……。」對此條約的內容，有法國人事後評論說：「這不是和平，這是二十年的休戰。」請問有關此條約的相關敘述何者正確？

- (A) 中美等國因不滿條約最後拒絕簽約
- (B) 條約內容主要是由英法俄等國主導
- (C) 此條約導致德意志及奧匈帝國瓦解
- (D) 懲罰性內容醞釀出第一次世界大戰

26. 「蘇伊士運河的開通大幅縮短船隻航行歐亞兩洲的時間，讓船隻不再繞過非洲好望角，成為連結歐亞非三洲的重要海運航道。這條運河當初是埃及在法國的贊助下開鑿，後因花費甚鉅，不得已出售運河股票，英國購入後成為最大持股人，開始積極介入埃及內政……。」請問根據上文敘述，蘇伊士運河開通的時間最有可能是下列何者？

- (A) 1664 年
- (B) 1723 年
- (C) 1869 年
- (D) 1915 年

27. 以下是第一次世界大戰期間各國的反應，請問哪些屬於同一邊陣營？

- 甲：我保持中立，你卻來惹我，我們戰場上見！
- 乙：有了德國支持，我要對塞爾維亞宣戰！
- 丙：我討厭奧國！所以轉投陣營來加入你們！
- 丁：塞國真可憐，但是我國內有點事，先退出了！
- 戊：同一民族團結一致！全面對俄、法開戰！

- (A) 甲乙丙
- (B) 甲丙丁
- (C) 乙丁戊
- (D) 丙丁戊

28. 西班牙畫家達利是 20 世紀聞名世界的超現實主義藝術家，他的作品將怪異的夢境形象與受文藝復興大師影響的卓越繪畫技術驚奇地混合在一起，經常呈現觸目驚心、與夢相關的超現實畫面。請問根據以上敘述，達利這位畫家應該也深受何人的影響？

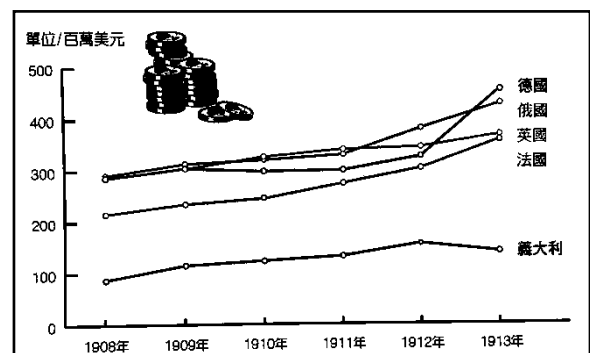
- (A) 居里夫人
- (B) 佛洛伊德
- (C) 愛因斯坦
- (D) 雷馬克

29. 9 月 1 日起，兩軍於色當開戰。9 月 1 日上午，法軍西撤的道路被敵軍成功切斷並從後堵截法軍。中午，敵軍包圍法軍並以強大火力攻擊。下午，法軍數次突圍失敗後，拿破崙三世下午 4 時半派信使至敵軍陣營，表示願「將他的佩劍交到陛下的手中」。隔天，拿破崙三世正式率 8.3 萬官兵投降。在這場戰役中，法軍損失 12.4 萬人，敵軍只損失了 9 千多人。請問下列何者是這場戰爭的影響？

- (A) 拉丁美洲開始獨立建國運動
- (B) 克里蒙梭要求嚴苛戰後條約
- (C) 奧地利自此退出日耳曼邦聯
- (D) 德國在外交政策上孤立法國

30. 以下是某本歷史課本中的軍費變化示意圖，請問此圖應該放在以下哪一個章節最為適當？

- (A) 日不落帝國的全球擴張
- (B) 鐵與血的國家統一戰爭
- (C) 三國同盟對抗三國協約
- (D) 總體戰背後的女權之路



31. 以下是某份文獻的部分內容：「壹、簽訂公開條約，杜絕秘密外交。貳、平時和戰時海上航行的絕對自由。參、裁軍和限制軍備。肆、公正處置殖民地問題。伍、恢復比利

時的領土完整和主權獨立。陸、巴爾幹國家的政治獨立和領土完整應由國際保證。柴、建立國際聯合機構以確保各國主權完整……。」以下哪一個內容應該會出現其中？

- (A)強調墨西哥國家主權不容歐洲干涉
- (B)允許奧匈帝國境內各民族實施自治
- (C)鼓吹社會達爾文主義協助非洲獨立
- (D)協助土耳其境內的塞爾維亞人建國

32. 下圖是來自南美洲烏拉圭博物館的紙鈔，上面右方印有 19 世紀協助該國獨立運動的功臣。該人物有「兩個世界的英雄」之稱，曾率領千人遠征團攻下西西里島並前進義大利半島，在當地舉行人民公投決定統一，最後將政權移交伊曼紐二世。請問此人應該為何者？



- (A)玻利瓦
- (B)俾斯麥
- (C)加富爾
- (D)加里波底

33. 狂歌是古代日本的一種詩歌體，常常用以反映或諷刺時事。某時期日本民間曾流行一首狂歌：「上喜撰喚醒太平夢，僅四杯便徹夜難眠。」上喜撰是一種日本茶，發音跟蒸汽船相同，詩歌表面說喝了四杯茶便難以成眠干擾好夢，實際上是在反映當時社會發生了變化？

- (A)加入帝國主義發動侵略戰爭
- (B)實施鎖國政策限制對外通商
- (C)美國派人來日要求結束鎖國
- (D)天皇親政實施君主立憲制度

【公民科:康軒版本第 1-2 課,第 34-50 題,每題 2 分;共 34 分】

34. 芯瑜在返家途中經過北新路上的美國麥當勞、呼嘯而過的德國 BMW 進口車，一個轉彎，在法國家樂福入口擠滿人潮，回家後看到媽媽正用 Netflix 看韓劇。上述情況，可見她身處何種社會？

- (A)法治化 (B)資訊化 (C)社會化 (D)全球化。

35. 因新冠肺炎(COVID-19)衝擊車商銷售，車商因此大砍車用晶片訂單，沒料到車市反彈速度快，反而面臨晶片短缺的情況，又要跟消費電子搶貨。當全世界的人大多時間都被困在家中，使用 3C 產品，全球的晶片產業努力滿足這方面的需求。全球車廠原要從疫情中重新出發，現在又面臨缺料考驗，像是本田汽車的北美供應商表示一月第二週大概減產了 2200 台車，比原來預計的少了 5 分之 1，直接造成廠商獲利損失。根據上文，以下敘述何者為真？

- (A)晶片缺貨的主因是文化交流的衝擊
- (B)疫情下，導致晶片主要滿足消費電子的需求
- (C)此情況僅影響北美，對我國影響不大
- (D)全球化促使文化發展趨向單一化。

36. 在現代民主社會中，「媒體識讀」是不可或缺的公民素養之一，請問此素養最接近下列何種能力？

- (A)思考懷疑能力 (B)團隊合作能力
- (C)溝通協調能力 (D)服務公益能力。

37. 下表為公共電視 3 月 14 日部分節目表，根據該電視台播出的節目，關於媒體功能的描述何者「錯誤」？

時段	節目	語言
09:00	下課花路米-博物館大驚奇	國
09:57	PeoPo 公民新聞報	國
11:00	獨立特派員	國
12:00	公視中晝新聞	台
12:30	模犯生 (電影)	泰國
18:30	公視暗時新聞	台
19:00	公視晚間新聞	國
20:00	一字千金	國

- (A)9:57 的「Peopo 公民新聞報」是公民接近權的展現
- (B)12:00「中晝新聞」、19:00「晚間新聞」是提供訊息
- (C)12:30 電影「模犯生」主要是休閒娛樂功能
- (D)20:00「一字千金」主要是透過益智遊戲競賽提升觀眾對國字知識與文化傳統的認知，為教育文化與休閒娛樂功能。

38. 韋智在公民筆記中寫到：「當不同文化接觸時，在經濟、權力等資源擁有優勢的一方，稱為★★。」上述★★應為下列何者？

- (A)寶萊塢文化 (B)多元文化
- (C)強勢文化 (D)西方文化。

39. 在社交媒體中，由於公司都希望用戶在平台中停留更久，從而獲取更多廣告收入。透過使用過濾氣泡 (filter bubble) 的方法，加上以大數據分析用戶的個人習慣、瀏覽和搜索記錄等，給予使用者想要的或是觀點一致的結果，畢竟接受到與自己價值觀、立場和想法接近的資訊能夠減少摩擦，使得社群中的人感到輕鬆自在，傾向繼續留在圈子中，接收自己想要的資訊。因此從「網路看世界」的網友們最終可能都是資訊偏食的受害者…。若你是作者，應該在文中最後如何提醒閱聽人？

- (A)避免使用網路，報章雜誌的真實性較高
- (B)避免用同一個 ip 位置上網，可避免個人立場的曝露
- (C)能多閱讀不同立場的資訊，可脫離同溫層的資訊偏食
- (D)要求政府制裁社交媒體，立法禁止過濾氣泡的技術。

40. 來自西班牙的黑素斯已在臺灣住了 10 年，能說一口流利的中文，以對臺灣民眾生活的觀察，製作網路節目阿兜仔不教美語。該節目從西班牙人、歐洲人的角度來反映與臺灣的文化差異，讓臺灣民眾得以從另一種視角反思習以為常的生活方式，並不是如此理所當然。例如：節目中提出「外國人會說英文」就是臺灣人對外國人最普遍的刻板印象。而且，臺灣人所說的「外國人」，其實只針對歐美白人。請問：黑素斯認為臺灣民眾缺乏下列何者？

- (A)我族中心主義 (B)文化創新想法
- (C)文化傳承理念 (D)多元文化精神。

41. 隨著時代進步，科技日新月異，但其中也衍生出許多違反資訊倫理的社會問題，下列敘述何者符合資訊倫理？
(A)到師範大學心測中心網站下載歷屆會考考題，在考試前充分練習，做好準備
(B)到電影院看「孤味」運用社群網站的直播功能將電影同步轉播給好友看
(C)收集 e-mail 帳號，發送非法賭博網站的相關資訊，藉此招攬賭客上門
(D)破解 iPhone 程式，免費下載使用原要付費的應用程式。
42. 我國為了保障創作者的智慧財產，避免受到他人侵害而訂定相關法律，下列何者不具有上述功能？
(A)社會秩序維護法 (B)著作權法
(C)專利法 (D)商標法。
43. 新店環河路設有區間測速，所謂區間測速，是將取締點延伸為線，可大幅增加速率控制的有效範圍，預期將會更有助減少事故發生。但區間測速近來傳出有資安疑慮，相關測驗儀器疑似中國製，資安專家分析，因區間測速儀器一定有連網功能，一旦有資安漏洞，車牌等交通大數據，都會被有心者完全掌握。日前新北市警察局交通大隊宣布所有區間測速暫時停用。根據上文，下列敘述何者正確？
(A)尊重民意帶來混亂影響政府權威
(B)區間測速的資安問題可能侵犯人民隱私權
(C)此為生物科技發展帶來之隱憂
(D)應大幅刪減交通部相關經費才能對人民負責。
44. 全球第一隻複製哺乳類動物「桃莉羊」的英國科學家魏爾邁(Ian Wilmut)博士，向英國政府申請複製人類胚胎的許可，以便取得胚胎幹細胞，研究「運動神經元疾病」這類惡疾的成因與發病過程。但同時對哪一個人類課題的衝擊最為嚴重？
(A)資訊倫理 (B)生涯發展 (C)運動規則 (D)生命倫理。
45. 世界衛生組織資料顯示，育齡女性發生不孕的比例約佔 8~12%，而國內臨床專家的經驗表示，台灣不孕症比例約佔 10~15%，我國為了保障不孕夫妻的權益，制定何項法規衛護相關倫理？
(A)民法 (B)人體試驗管理辦法
(C)專利法 (D)人工生殖法。
46. 近年市面充斥各種非法 OTT 機上盒，標榜可免費收看國內各大直播衛星、有線電視節目、美國日本韓國及國內各式電影、戲劇影集等內容，經查發現犯罪集團是透過架設於國內電信機房的網路伺服器主機以破解各大電視台合法訊號，再透過網路傳輸到非法機上盒供消費者收視。請問：上述行為可以何種法律加以制裁？
(A)著作權法 (B)專利法
(C)商標法 (D)消費者保護法。
47. 宏恩製作「智慧財產權」的報告，當中提到為了兼顧創作人的權益保障與知識流通，我國政府已在智慧財產權的相關立法中明定著作的「合理使用範圍」。為了讓報告更與生活經驗貼合，請問他應該在報告中舉出何種例子較為適當？
(A)網紅在個人部落格中，未註明出處引述他人的作品
(B)下載流行樂，在自己經營的店裡播放
(C)老師影印幾頁他人著作作為課程補充
(D)將上映中電影剪輯成濃縮版，讓觀眾掌握該片劇情。
48. 超市許多食品外包裝都標榜「非基因改造」，此種標示的主要用意為何？
(A)價格較為低廉，吸引消費者購買
(B)基改食品食用風險高，提醒消費者注意
(C)明確標示讓有疑慮的消費者能充分知悉
(D)企業善盡資訊倫理的展現。
49. 學者將美國社會比喻為一個「大沙拉碗」，不同的族群和文化群體猶如碗中的各種蔬菜、水果，雖然攪拌在一起共同構成一道沙拉，但各自仍保留著自己的形貌與特色。請問：下列敘述符合學者的觀點？
(A)弱勢文化必然接納強勢文化，形成文化交流
(B)強勢文化需要擴展國際視野，豐富文化內涵
(C)文化除了相互尊重外，肯定自我文化亦相當重要
(D)強勢文化有提升弱勢文化內涵之責，創造優質文化。
50. covid19(新冠肺炎)影響下，許多企業為了減少群聚風險，開始實施「在家上班」(work from home)，員工只要有網路、電腦就可以在家開會，進行各項工作。公司意外節省了員工午餐、水電費等開銷，也提升了員工滿意度。難怪人力資源公司紛紛預測，未來遠端在家上班的工作型態，可能會成為企業長期發展的重要趨勢。請問：此種新型態的工作方式之所以能夠成功，主要與下列何者發展密切相關？
(A)covid19 疫苗研發 (B)資訊科技的發展
(C)交通運輸的革新 (D)家電設備的升級。

109 學年度第二學期第一次段考九年級社會科解答：

1-5 BADDA 6-10 CCBAB 11-15 CBADC

16-20 ABCDB 21-25 ABADA 26-30 CBBDC

31-35 BDCDB 36-40 AACCD 41-45 AABDD

46-50 ACCCB