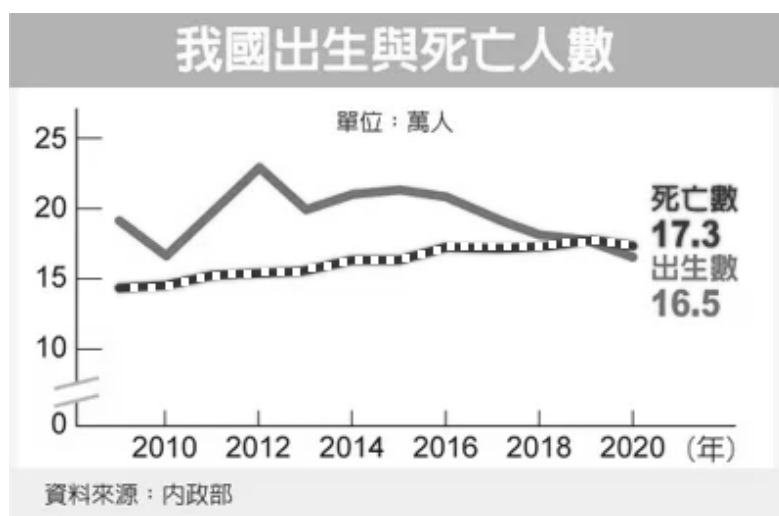


【地理科:第 1~2 章,第 1-14 題,每題 2.5 分;共 35 分】

1. 人口遷移是造成人口空間變化的重要因素,根據遷移的空間、時間分為四種型態如下表所示。請問:下列所述何者屬於丁型態?

時間 \ 空間	國內遷移	國際遷移
暫時遷移	甲	乙
永久遷移	丙	丁

- (A) 在越南出生長大的陳氏蘭嫁來台灣  
(B) 佳珈申請到瑞士研究所,出國深造  
(C) 住桃園的德翰,搭車南下嘉義讀大學  
(D) 峻睿從基隆搬家,入住新北市買的新房
2. 「人口密度」可以用來表示人口的疏密程度,下列何者與人口密度比較沒有直接關係?
- (A) 學校設立 (B) 連鎖餐飲店展店  
(C) 百貨公司的選址 (D) 購物網站的設置
- 3.



內政部 (2021.01.08) 日公布去年(2020)人口統計,有三個數字創下有統計數字以來的歷史紀錄,如附圖。

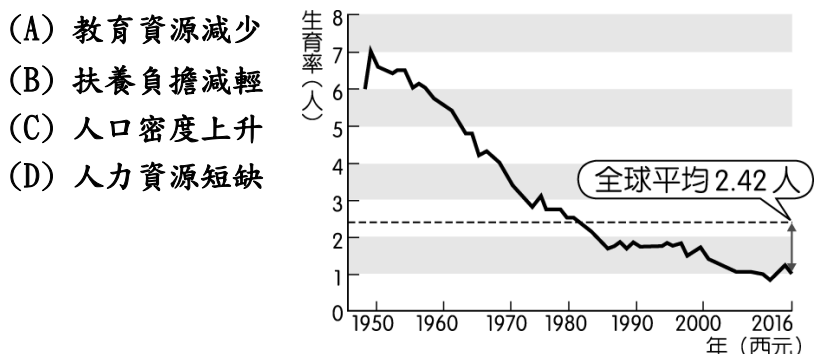
一、臺灣首次出現  ,去年底臺灣人口數為 2,356 萬 1,236 人,較前年底減少 4 萬 1,885 人。

二、新生兒人數創下史上新低,去年全年出生數 16 萬 5,249 人。

三、死亡人數首年大於出生人數,人口自然成長首度迎來「死亡交叉」。

對此,國發會主委表示,政府若不採取對策,將對臺灣競爭力形成重大威脅。請問:上文中若不考慮社會增加的情況下,  指的是下列何者?

- (A) 人口成長速度增快  
(B) 人口密度逐漸增加  
(C) 人口總數呈現負成長  
(D) 人口增加率呈現正值
4. 附圖中根據內政部的統計,歷年臺灣婦女平均生育的孩童數,從民國 98 年台灣的出生率已經成為全球最低,造成幼年人口比例過少,形成人口結構的變化。請問:台灣在 20 年後最有可能出現什麼樣的人口問題?



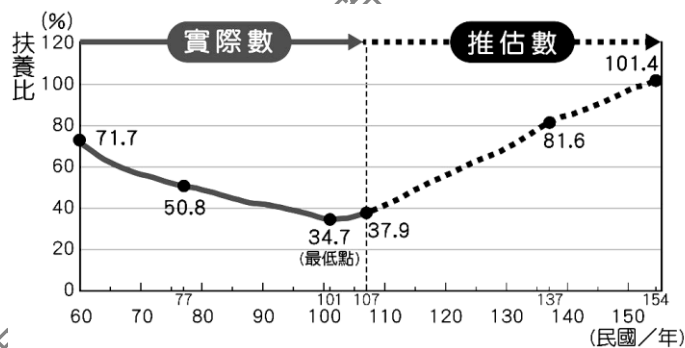
5. 有彥是五峰國中七年級的男學生,家庭成員有 86 歲的曾祖母、67 歲的爺爺、63 歲的奶奶、45 歲的爸爸、40 歲的媽媽、15 歲的姐姐和 6 歲的弟弟。請問:下列關於有彥家中家庭成員的敘述,下列何者「正確」?

- (A) 扶養比為 75 % (B) 性別比為 100  
(C) 壯年人口有 5 位 (D) 女性多於男性

6. 現在在機場、大型車站、飯店等公共場合,常看到穆斯林專用的祈禱室,這些相關設施的數量在國內逐漸在增加。臺灣的穆斯林,大多來自下列哪個國家?

- (A) 日本 (B) 泰國 (C) 印尼 (D) 美國

7. 扶養比是一項人力指標,分析一國的扶養比資料可讓攸關人口政策的推行更有幫助。附圖為台灣扶養比變化及推估情況請問:

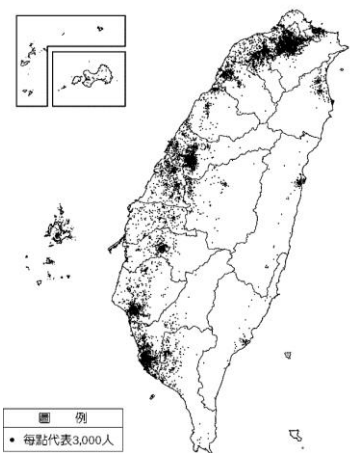


由附圖判斷預估到民國 137 年扶養比將從民國 108 年的 39% 上升到 81.6%,屆時經濟成長只會更加艱辛,國家的財政也會更加困難,再加上進入超高齡社會後的年金給付、醫療照護……等壓力,將會是台灣社會前所未見的考驗。台灣在未來所要面對的人口問題,政府應該積極推動下列何項政策,才能有效解決根本問題?

- (A) 增加老人福利,落實老人照護  
(B) 積極鼓勵生育,提高出生育率  
(C) 加強鄉村建設,留住壯年人口  
(D) 引進跨國移工,解決人力短缺

8. 附圖為近代臺灣人口分布點子圖。由圖判斷,人口主要集中在西半部的哪些地形上?

- (A) 平原、盆地  
(B) 平原、丘陵  
(C) 丘陵、山地  
(D) 盆地、山地



9. 自從民國 81 年通過就業服務法後,國際移工來臺就業有法律依據,逐步開放眾多產業引進國際移工。國際移工大多來自東南亞地區,越南、泰國、印尼、菲律賓、馬來西亞等。請問:為什麼國際移工需要到臺灣工作?

- (A) 工作待遇較低  
(B) 工作機會較多  
(C) 臺灣有開辦職業訓練課程  
(D) 臺灣有豐富多元的文化與美食

10. 新北市日前舉辦中文識字班，課程內容以中文教學及臺灣節慶、飲食、文化習俗介紹等生活課程為主，希望協助學員能迅速融入本地社會，進而與鄰里社區產生良好互動。下列何者是最有可能是參加此課程的學員？

- (A)原住民 (B)銀髮族 (C)新住民 (D)學齡前幼兒

※下表為民國 109 年臺灣六個直轄市的人口成長變化，請回答下列問題：

	人口 總數 (萬人)	出 生率 (%)	死 亡率 (%)	社會 增加 率(%)	0~ 14 歲人 口 (%)	15~ 64 歲人 口 (%)	65 歲 人口 (%)
新北市	403.1	6.5	6.1	2.6	12.0	72.7	15.3
臺北市	260.2	7.3	6.6	-16.9	13.2	67.7	19.1
桃園市	226.9	9.5	5.8	5.1	14.6	72.5	12.9
臺中市	382.1	7.0	6.2	1.2	14.0	72.4	13.6
臺南市	187.5	5.8	8.2	-0.8	11.9	71.6	16.5
高雄市	276.6	6.8	7.8	-1.6	11.7	71.6	16.7

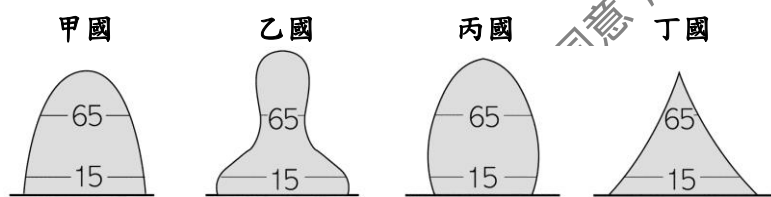
11. 由表中資料研判，哪個直轄市人口外移的現象最嚴重？

- (A) 新北市(B) 臺北市(C) 桃園市(D) 高雄市

12. 由上表觀察，下列敘述何者正確？

- (A) 臺中市的人口增加率是 0.4 %  
(B) 桃園市的人口增加率是 3.03 %  
(C) 性別比最高的直轄市是高雄市  
(D) 扶養比最高的直轄市是臺北市

※觀察一地的人口金字塔圖，可得知該地的人口組成及人口素質，並推估當地的經濟發展。附圖為四個不同國家的人口金字塔。請問：



13. 「某國政府積極鼓勵生育，提供育嬰假及津貼等福利。」此國家人口金字塔最可能是圖中何處？

- (A)甲 (B)乙 (C)丙 (D)丁

14. 當一國的人口金字塔圖如何的轉變時，可判斷出這期間該國最可能是經濟發展程度提高？

- (A) 甲→乙 (B) 丙→乙 (C) 丙→丁 (D) 丁→甲

【歷史科：第 1-2 章，第 15-27 題，每題 2.5 分；共 32.5 分】

15. 臺灣仕紳丘逢甲的《離台詩》中寫下：「宰相有權能割地，孤臣無力可回天。扁舟去作鴟夷子，回首河山意黯然。」——並渡海至中國大陸，從此不再回到臺灣。根據上述內容，丘逢甲因何事失敗離開臺灣？

- (A)牡丹社事件 (B)霧社事件 (C)余清芳事件 (D)臺灣民主國

16. 峰哥、小童與心怡正在討論歷史課中，台灣日治時期的重點整理：

峰哥：這件事情可說是日治時期臺灣人武裝抗日中規模最

大的一場，並且造成了許多人的傷亡。

小童：沒錯，從這件事情之後臺灣人民就改採其他方式來跟日本政府爭取權益。

心怡：這件事情主要發生的地點在現今的臺南一帶。

根據上述內容，應為下列哪一事件？

- (A)臺灣民主國 (B)余清芳事件 (C)霧社事件 (D)甲午戰爭

17. 米是東方人的主食，臺灣俚語說「一樣米餬百樣人」、「吃飯皇帝大」，可見米食在臺灣的地位。日本人引進粳稻在臺灣改良、種植成功，使台灣除了糯米、在來米之外，又多了蓬萊米，豐富了臺灣的米食文化。此一「蓬萊米」的改良應為下列何者所培植成功？

- (A)磯永吉 (B)邱逢甲 (C)八田與一 (D)後藤新平

18. 臺灣有句諺語「烏煙食稠腳曲曲，親像老猴吹洞簫」，是描述吸食鴉片成癮者的狀態，諷刺抽鴉片上癮的人瘦成皮包骨、彎腰駝背的「老猴」，躺在床上緊抱煙桿，像吹洞簫似的努力吞吐毒氣。日本統治時期採用何種方式治理鴉片吸食問題？

- (A)開放鴉片，因流通方便難以杜絕，成癮者取得容易  
(B)施行專賣制度，使其成為增加財政收入的來源  
(C)鴉片為藥物，日本政府認為沒有理由禁止  
(D)鴉片成癮者帶來充足勞動力，振興臺灣經濟

19. 多年前原住民立委高金素梅率領高砂義勇隊的遺族，遠赴東京，到靖國神社迎靈，不過，還沒抵達靖國神社，車子就被日本警方攔下。而高砂義勇隊主要是原住民在日治時期被徵召以日本兵身份參與戰爭，為日本國犧牲。

請問：日治時期，臺灣會被捲入戰爭，全面進入戰時體制，甚至實施徵兵制度，主要是下列哪一場戰爭開打所導致？

- (A)牡丹社事件 (B)日軍接收臺灣 (C)甲午戰爭 (D)中日戰爭

20. 日本統治臺灣初期，採取「農業臺灣，工業日本」的政策，但是到了一九三〇年代起，轉變為「工業臺灣，農業南洋」的發展策略。造成這種轉變的主要原因是什麼？

- (A)為了吸引日本資本家來臺投資  
(B)滿足臺灣民生用電的需求  
(C)配合日本前進南洋對外擴張的需要  
(D)臺灣農業面臨升級的衝擊

21. 該時期的目標，就是要將臺灣人變成「真正的日本人」——無論在外在或內在，都要成為盡忠天皇的子民。下列的施行政策與該時期無關的是哪一項？

- (A)推行民族自決 (B)推行國語教育  
(C)推行參拜神社 (D)推行徵兵制度

22. 日治初期，為了順利統治臺灣人民，並奪得最大利益，總督府施行過許多措施，其中何者為非？

- (A)制定嚴格的法令控制民眾，使台灣人民不敢有意見  
(B)確認土地所有權，清查隱藏未呈報的土地，增加稅收  
(C)迫害臺灣人傳統信仰，施行參拜神社的政策  
(D)運用保甲制度與警察制度，嚴格控制、監視人民的言行

23. 日治時期，人們開始形成了「臺灣人」的共同意象，從「我是新店人」或「我是艋舺人」變成「我是臺灣人」，造成此一發展的原因可能是下列何者？

- (A)建造基隆港、高雄港，與國際接軌

答案卡需用 2B 鉛筆作答。

- (B)鐵路、公路建設完成，連結各鄉鎮  
(C)設立台灣銀行，統一貨幣與度量衡  
(D)設立郵局、電報系統，連結親戚情感

**題組一：**請依照下文回答第 24-27 題。

兒玉源太郎擔任第四任臺灣總督時，提拔後藤新平擔任臺灣民政長官(1898-1906 年)。然而，此時臺灣治理困難，不僅猶有漢人反抗，且由於日本從國庫提撥補助金支援臺灣，成為日本財政上的一大負擔。後藤新平把「比目魚和鯛魚」比喻成兩種民族，鯛魚的眼睛是絕不可能從兩側變成像比目魚那樣都在同一側，換言之，民族之間有差異性，所以如果要統治另一個民族，一定要深入了解他們的特性，並且針對這些特性研擬出最適合的統治方式，請問：

24. 後藤新平擔任民政長官時期，完成了臺灣下列何者政策？  
(A)興建日月潭水力發電廠 (B)改良農業稻作 (C)戶口調查 (D)推行南進政策。
25. 承上題，後藤新平所提出的「比目魚和鯛魚」理論，對臺灣總督府的統治上發生了什麼樣的影響？  
(A)加強基礎建設與經濟基礎  
(B)通過六三法賦予總督權力  
(C)進入內地延長主義時期  
(D)推行日臺合一的理念

**題組二：**

有一則新聞報導，「瞄準林業資源，後藤新平視察阿里山，歌頌吳鳳」，該新聞報導指稱，發現臺灣森林的資源豐富，擁有檜、樟、楠、柏、杉木等優質高價值林木，並擁有嘉義阿里山、臺中八仙山、宜蘭太平山三大林場。

26. 該報導最早出現的時間點，應為下列哪一時期？  
(A)清領後期  
(B)殖民地特殊統治時期  
(C)內地延長時期  
(D)皇民化時期
27. 該報導之後所造成的影響，應為下列何者？  
(A)交通建設愈發完整，興建縱貫鐵路  
(B)設立郵政、電報、電話系統  
(C)興建阿里山小火車提供民眾觀光  
(D)原住民傳統生活領域的流失

**【公民科:第 1-2 章，第 28-40 題，每題 2.5 分；共 32.5 分】**

28. 下列有關次文化的敘述，何者正確？  
(A)一個社會除了主流文化外，只能出現有一種次文化  
(B)次文化的價值、信仰和規範，與主流文化沒有共通性、範圍也比較小。  
(C)次文化通常讓一個社會文化出現落後的狀況，所以不鼓勵  
(D)次文化的產生往往會受到年齡、職業、族群、宗教等因素的影響。
29. 下表為花輪做的公民報告，他用圖表說明的是各族群舉辦婚禮時採用的慶祝儀式，請問根據資料內容判斷，這顯示文化的那一種特徵？

	特點說明
排灣族婚禮	男方在女方家門口搭鞦韆架
布農族婚禮	「分豬肉」的傳統儀式
臺灣婚禮	用「米篩」遮蓋新娘頭頂、丟扇子等

(A)普遍性 (B)差異性 (C)位階性 (D)優越性。

30. 公民課時，大家在討論假期時大家的生活趣事，請問，他們所說的那些說的屬於社會規範的範圍呢？

甲小丸子	我們這族的成年禮是在十八歲，我去參觀了有趣的儀式喔！
乙小玉	我和同學在沙灘看到好多垃圾，就幫忙撿了起來，沒想到越撿越多耶！
丙美環	媽媽要我和她一起盛裝去寺廟社參拜祈福，之後才能順順利利
丁丸偉	我看到警察伯伯在取締烏賊車，罰好多錢喔！

- (A)甲丁  
(B)甲乙丁  
(C)甲乙丙  
(D)甲乙丙丁

31. 以下為某雜誌所刊登的臺灣文化速寫觀察，這篇文章的主題應與下列何者最相關？

臺灣年輕人愛吃炸雞、漢堡和可樂，上班族早餐人手一杯咖啡，這些都是美國電影、美劇經常出現的場景，不知何時起，卻成為臺灣生活的日常。

- (A)殖民地政府的文化擴張  
(B)強勢文化傳播的媒體影響力。  
(C)弱勢文化對強勢文化的抵抗  
(D)在地傳統飲食文化的獨特性

32. 同學們正在分享對「文化位階」概念的理解，以下哪一位的說明完全正確？

- (A)橘子：這只會發生在文化比較低等的國家  
(B)小新：青少年穿著嘻哈風並喜歡聚集在公共廣場練習跳街舞，屬於文化位階落差。  
(C)小蘭：可能出現文化之間的不平等現象。  
(D)柯南：有雇主因不瞭解宗教禁忌，強逼印尼穆斯林外勞食用豬肉的狀況屬於環境差異造就文化高低。

33. 下圖是新一為主題報告所做的訪談記錄如下，依照受訪者的自述，凸顯出是何種原因造成這樣的問題？

我是一個在台灣教外語的印尼籍老師，外出時，時常有人有奇怪的眼神看我、或對我有些歧視，如拒絕我到餐廳用餐、或者對我指指點點…令我感到很不舒服…相較於同樣在教英語的英美人士，就沒有這樣的問題

- (A)我族中心主義  
(B)文化普遍性  
(C)文化創造力  
(D)次文化。

34. 下列誰的的做法，比較符合「第六倫」的要求和期待？

- (A)孔融讓梨  
(B)岳飛精忠報國  
(C)小花在圖書館閱覽室裡輕聲細語  
(D)王祥臥冰求鯉

35. 每年農曆 7 月 15 日，是祭祀孤魂野鬼的大節日，各地都會舉行「普渡」活動。請問：普渡活動是受到下列何種社會規範的約束與影響？

(A) 風俗習慣、宗教信仰  
(B) 法律、倫理道德  
(C) 風俗習慣、倫理道德  
(D) 法律、宗教信仰。

36. 以下為兩名外國人士在討論與臺灣友人用餐的經驗，根據對話內容可看出何種問題發生？

傑克：我昨天去台灣朋友家吃飯，他們家請我吃合菜，菜色雖好，但是好恐怖喔！他們一直用自己的筷子夾，我感覺要吃到他們的口水了！  
安妮：這樣好噁心喔，為什麼他們不一人一份，吃自己盤子裡的東西，要大家一起，是菜不夠嗎？

(A) 強勢文化影響弱勢文化  
(B) 由於文化差異產生文化衝突  
(C) 因為文化高低影響飲食習慣  
(D) 先進國家人民歧視落後國家

37. 下圖的文獻是柚子在書上看到有關「牽手」一詞的相關資料。從這個典故的歷史發展判斷，它最能表現甚麼意涵？

文獻資料：  
台灣文獻記載台灣原住民族、平埔人稱妻為牽手，後受台灣不同族群廣泛使用，向外人謙稱自己配偶。

(A) 文化融合  
(B) 文化創新  
(C) 文化位階  
(D) 我族中心主義

38. 目前各國都致力於促成「多元文化社會」，也就是倡議給予多元族群在各方面擁有一個機會均等、尊重包容的社會。請問下列何種作法有助於實現多元文化社會？

(A) 排出不同族群文化之間的優劣等級  
(B) 規定各族群擔任民意代表人數都要一樣才公平  
(C) 減少文化交流以確保弱勢族群文化不會被取代  
(D) 尊重個人選擇族群文化認同的自由。

39. 電影《姊姊的守護者》描述一對夫妻，為了挽救罹患罕見病的大女兒，利用醫學科技生下具有完美基因配對的小女兒。而妹妹出生後，就不斷地捐贈骨髓、幹細胞、臍帶血給姐姐。直到姐姐 13 歲時，妹妹被要求捐出一顆腎臟，但是她卻拒絕了，並找來律師控告母親侵害自己的身體自主權。在訴訟的過程中，媽媽對安娜說：「難道妳不想救姊姊嗎？」、「為什麼妳不聽媽媽的話」。請問在訴訟的過程中，媽媽試圖以哪一種社會規範的約束力，來影響妹妹的想法；而妹妹想以甚麼規範來保護自己的身體自主權？

(A) 風俗習慣、法律  
(B) 倫理道德、法律  
(C) 宗教信仰、宗教信仰  
(D) 法律、宗教信仰

40. 班會課時，老師讓同學們討論一個主題「為什麼需要社會規範？」請問：下列哪位同學的說法是錯誤的？

(A) 濱崎：社會規範可以減少社會的衝突與紛爭  
(B) 野口：社會規範中最具有強制力的是法律  
(C) 豬太郎：社會規範可以維護社會的安全與秩序  
(D) 前田：社會規範只有規範外在行為；通常不會規範內在良知

## 109 學年度第二學期第一次定期評量 七年級 社會科 解答

1-5 ADCDB	6-10 CBABC	11-15 BDCDD	16-20 BABDC
21-25 ACBCA	26-30 BDDBD	31-35 BCACA	36-40 BADBD