

答案卡需用 2B 鉛筆作答。

【地理科:第 1-2 章, 第 1-14 題, 每題 2.5 分; 共 35 分】

1. (中央社東京 10 日綜合外電報導) 日本 311 大地震即將屆滿 10 週年, 這起日本地震觀測史上最大地震所引發的海嘯, 不僅摧毀民眾家園, 也帶走許多寶貴生命。回顧過去 10 年, 311 餘震至今未曾中斷。請問: 日本地質不穩定的因素, 與下列哪一項最有關係?

- (A) 地質古老, 歷經長期侵蝕
(B) 位於大陸板塊與海洋板塊的接觸帶
(C) 位於季風氣候區, 多颱風雨侵蝕劇烈
(D) 多流水侵蝕的高山高原, 火山容易爆發。

2. 附表是有關日本列島及朝鮮半島的自然環境之比較, 何者正確?

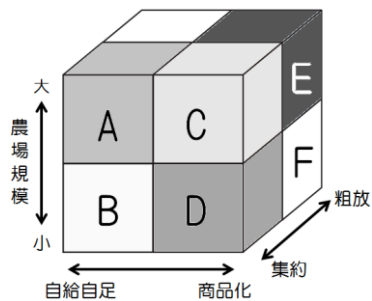
- (A) 地形主體 (B) 平原分布 (C) 氣候類型 (D) 季風風向。

	日本列島	朝鮮半島
地形主體	山地、高原	高原、盆地
平原分布	本州島西岸	西側及南側
氣候類型	溫帶季風氣候	副熱帶季風氣候
季風風向	夏季: ↘ 冬季: ↙	夏季: ↘ 冬季: ↙

3. 「韓流」從亞洲吹向全球, 隨著電影、戲劇與 K-POP 聚集大量人氣, 帶動觀光、美妝、電子等產業發展, 產值驚人, 令人稱羨。這項文化產業除了南韓傾國家之力大力支持外, 主要還要透過什麼方式才能使其輸出順利名揚海外?

- (A) 廉價影視產品出口 (B) 發達的網際網路
(C) 結合傳統工藝祭典 (D) 譯成英語行銷全球。

4. 小喬在閱讀東北亞農業發展時, 發現「日本會在都市近郊發展園藝農業, 種植蔬果、花卉, 並且將農產品行銷至大都會區」。附圖是從農場規模、作物流向、耕種方式三種面向探討農業的型態, 若依上文敘述判斷, 日本發展的園藝農業屬於附圖中的哪一類? (A)B (B)C (C)D (D)F。



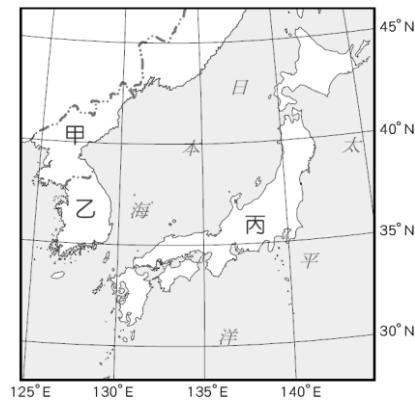
5. 臺、日、韓三國近幾年來皆努力推動智慧型農業的相關政策, 如無人機灑藥施肥、農地水量自動管理、自動駕駛的耕耘機等, 並利用大數據分析及預測天候環境, 以提高作物產量。這樣的農業變化趨勢, 除了導因於科技的進步, 也與哪一項因境有關?

- (A) 農業人口老化短缺 (B) 加入世界貿易組織
(C) 農業資金取得困難 (D) 全球暖化耕地淹沒。

6. 日本依靠國際貿易來維持生活水準及工業化國家的地位, 從明治維新開始就一直是國家政策的重點, 國家也朝這個方向努力, 所以可說「國際貿易是日本的經濟命脈」。此敘述說明了日本經濟活動的哪一項特性?

- (A) 日本海岸線曲折多良港, 故重視海洋資源
(B) 日本的陸運以鐵路為主, 客貨運輸極為繁忙
(C) 日本主要工、礦原料均依賴進口, 工業產品運銷全球
(D) 日本產品價格低且品質好, 在國際市場上極具競爭能力。

※附圖為東北亞位置圖, 請回答 7~8 題:



7. 小溪出國旅遊, 發現當地常見的「溫突」(如附圖), 為其傳統住居, 利用廚房爐灶的熱氣引入室內的取暖設施, 類似的設施在中國北部區域也極為常見。小溪最可能是到圖中哪些國家旅遊?

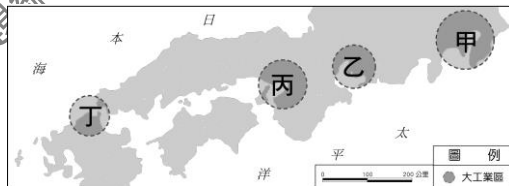
- (A) 甲乙 (B) 甲丙 (C) 乙丙 (D) 甲乙丙



8. 關於圖中甲、乙兩國的比較, 下列何者正確?

- (A) 甲國實施民主政治體制 (B) 甲國礦產能源較乙國豐富
(C) 乙國主要發展國防工業 (D) 甲國經濟發展程度優於乙國。

※附圖為日本境內重要的工業區分布圖, 請依圖回答 9~10 題:



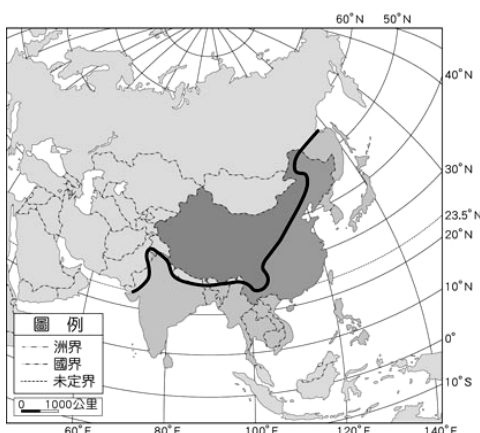
9. 日本工業區此種分布情況與下列哪一項因素最相關?

- (A) 勞工眾多 (B) 原料豐富 (C) 接近市場 (D) 運輸便利。

10. 日本的行政中心與第一大都市——東京, 位於圖中哪一個工業區域?

- (A) 甲 (B) 乙 (C) 丙 (D) 丁。

※季風亞洲是指受季風影響的亞洲地區, 其界線西起塔爾沙漠東緣, 向東經喜馬拉雅山脈、青藏高原東緣、大興安嶺一線以東的地區, 如附圖, 請回答 11~14 題:



11. 根據以上敘述, 下列何者最有可能為此界線以東、以南地區的特徵?

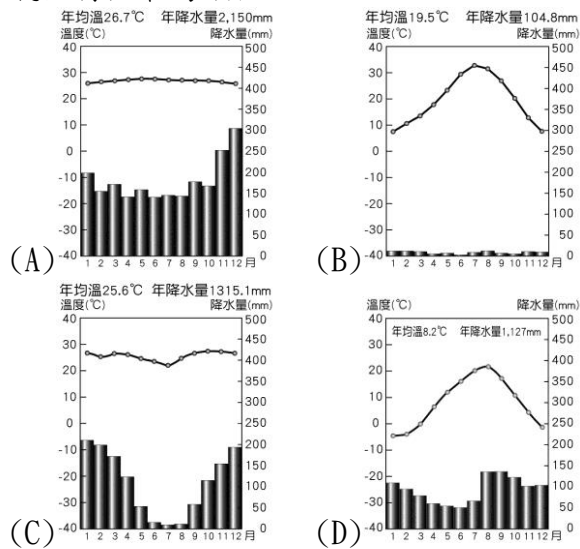
- (A) 漢人居多
(B) 地勢平坦, 缺乏山脈
(C) 傳統民居皆為斜頂設計
(D) 冬、夏風向相反, 夏季為主要雨季。

12. 老師在課堂上呈現一張地球夜間的衛星影像圖，圖上有些地方漆黑一片，也有不少地方有明亮的光點，老師解釋有光點的地區通常是經濟較發達且人口較集中的地區，其中一大塊光點明顯集中的地區，就是「季風亞洲」。依此判斷，「季風亞洲」光點較多的區塊最不可能集中在哪一個地區？
(A)東亞 (B)西亞 (C)東南亞 (D)東北亞。

13. 小御想要規劃一趟「季風亞洲」旅遊，下列哪些國家或地區可以列入他的行程之中？
(A)甲乙丙 (B)甲乙丁 (C)甲丙丁 (D)丙丁戊。

阿豪旅行社旅遊資訊 (5月)
(甲)東北亞—日本北海道賞櫻花
(乙)東亞—大漠絲路穿梭古今
(丙)東南亞—菲律賓長灘島逍遙度假
(丁)南亞—恆河與印度文明探查
(戊)西亞—杜拜帆船飯店奢華之旅

14. 同屬季風亞洲的東北亞地區，下列四張氣候圖中，哪一張氣候特徵最為類似？



【歷史科：第 1-2 章，第 15-27 題，每題 2.5 分；共 32.5 分】

15. 1919 年北大學生於北京天安門遊行，並高舉「外爭主權，內除國賊」、「還我青島」、「賣國賊曹汝霖」等標語。造成上述內容狀況的原因為何？
(A)甲午戰爭爆發 (B)巴黎和會的召開
(C)第一次世界大戰開打 (D)日本炸死張作霖
16. 廣州國民政府在發展上有許多難題，國民黨內部一直衝突不斷。孫文不僅無法控制軍閥，列強亦轉向支持各地軍閥。因此孫文開始尋找其他資源的協助，並希望擁有自身的軍隊，因此與下列何者合作？
(A)南方軍閥 (B)德國 (C)蘇聯 (D)日本
17. 民國初年有諸多刺殺的行動，其中當屬剛當選內閣總理的宋教仁刺殺案最廣為人知，當時宋教仁臨終前亦請人拍了一封電報給北京的袁大總統，並寫下：「伏冀大總統開誠心、布公道，竭力保障民權；俾國家得確定不拔之憲法，則雖死之日，猶生之年。臨死哀言，尚祈見納。望大總統能完成宋教仁的遺志。」上述刺殺案爆發後造成了哪一事件？
(A)國民革命軍北伐(B)二次革命(C)護法運動(D)洪憲帝制
18. 某項條約中內容寫道：第一號為關於山東省：中國允許該國繼承德國在山東的一切利益；山東省內及其沿海土地島嶼不得讓與或租與他國，煙台或龍口至膠州鐵路，由

該國建造。第二號為關於南滿、東蒙：中國承認該國在此地之優越地位，享有土地租借權及所有權，中國有關該地之向外借債，聘請政治、軍事、財政顧問，均需得到該國之同意。吉長鐵路由該國管理……

請問該條約提出的背景應為下列何者？

- (A)巴黎和會召開後，該國向中國提起的要求
(B)袁世凱洪憲帝制施行時，該國趁機向袁提出要求
(C)軍閥統治割據時，該國向軍閥釋出善意並提出要求
(D)第一次世界大戰期間，列強無暇處理亞洲事務
19. 民國初年，總統府與國務院之間為了是否參與第一次世界大戰而爭論，其中國務總理段祺瑞因出身北洋軍而擁有著強大的軍權，總統黎元洪在北京則無自身軍隊，因此煩請徐州督軍入京協調。黎元洪的決定造成了哪一事件的發生？

(A)二次革命(B)武昌起義(C)張勳復辟(D)護法運動

題組：

歷史課當中，阿國、阿凱、阿雅跟阿慈在討論著清末民初時各方勢力的合作與對抗：

阿國：立憲派因為對「某些事情」的失敗感到灰心，遂與革命黨開始合流，並且籌劃要推翻滿清。

阿凱：因為袁世凱的有意施行某項政策，影響到其他人的利益，立憲派領袖梁啟超與革命派皆採反對態度。

阿雅：蘇聯與中國國民黨關係良好，國民黨以此為基礎向各國勢力宣戰。

阿慈：北洋政府方面拒絕恢復臨時約法，因此孫文號召國會議員與南方軍閥另立政府，形成南北對立的局面。

20. 阿國所提到的某「某些事情」應為下列哪一事件？

(A)皇族內閣 (B)戊戌變法 (C)保路運動 (D)武昌起義

21. 在四人的討論過程中，有一位同學的論述內容出現了錯誤，應為下列何者？

(A)阿國 (B)阿凱 (C)阿雅 (D)阿慈

22. 請依照上述討論內容中的線索，依照時間出先後順序排列。

(A)阿國→阿凱→阿雅→阿慈
(B)阿凱→阿國→阿慈→阿雅
(C)阿國→阿凱→阿慈→阿雅
(D)阿凱→阿國→阿雅→阿慈

23. 有一個小鎮沒有公共廁所，人們便常常在街道的一個小巷子裡大小便，兩側居民深惡之，於是請一名文士寫了一個條幅貼上，其條幅為「行路人等不得在此大小便」，結果無效。有一天抓住了一個正在小便的男士，便質問他：「我們已經寫出公告『行路人等，不得在此大小便』，你為什麼不聽勸阻執意在此大小便呢？」男士說：「上面明明白白寫著『行路人，等不得，在此大小便』呀！」造成此一笑話的原因乃是因為沒有標點符號所造成，哪一事件解決了此一問題？

(A)護法運動 (B)保路運動 (C)五四運動 (D)新文化運動

24. 1927 年 4 月 17 日，在南京的中國國民黨中央執行委員，胡漢民、蔣中正、柏文蔚等及部分監察委員宣布在南京組國民政府，以胡漢民為主席，寧漢正式分裂。造成該事件的主要原因應為下列何者？

(A)蔣中正下令清除黨內共產黨分子

- (B)國民黨內部對於北伐進軍路線出現分歧
(C)孫文採取「聯俄容共」態度與蔣中正決裂
(D)武漢與南京政府計畫各自清除黨內共產黨

25. 右圖為徐志摩與

張幼儀的離婚
通告。同一時
期，戀愛結婚
的觀念透過報



刊宣傳，也逐漸成為青年們心中理想婚姻的最高標準，在《婦女雜誌》「我之理想的配偶」徵文當中，青年們一致的都提到說要有愛情。下列何者與上述內容屬於同一時期的觀念？

- (A)遵從三從四德 (B)贊成「男主外，女主內」
(C)女性成為賢妻良母 (D)女性能自立自強

26. 魯迅在其重要代表小說〈狂人日記〉中描寫一個患有迫害狂的精神病人之心理活動，將其對社會生活的清醒描寫和對狂人特有的內心感受揉雜在一起。小說中寫道：「這歷史沒有年代，歪歪斜斜的每頁上寫著『仁義道德』幾個字。我橫豎睡不著，仔細看了半夜，才從字縫裡看出來，滿本都寫著兩個字是『吃人！』」

請問魯迅〈狂人日記〉中的「吃人」可知魯迅具有何種立場？

- (A)對於西方文化思想的抵制
(B)對於中國傳統文化的批判
(C)對於新文化運動的反思
(D)對於精神病人具有同情心

27. 「保路運動」是由立憲派發動和領導的。他們力圖把運動控制在理性的保路範圍內，要求人們只求保路，不反官府，不打教堂，更不得聚眾暴動。革命黨並未領導保路運動，但他們「借保路之名，行革命之實」，混跡其中，趁機宣傳，藉此擴大事端，尋找起義的機會。

依照歷史的真實發展來判斷，以下何者所規劃的革命計畫，最終獲得成功？

- (A)小彥：「新軍大都被調入四川，武昌的防務空虛，這是發動起義的好機會！」
(B)吳昊：「新軍大都被調入北京，南京的防務空虛，這是發動起義的好機會！」
(C)芄芄：「新軍大都被調入武昌，四川防務空虛，這是發動起義的好機會！」
(D)蘇菲：「各地保路運動蜂起，不如趁亂至北京暗殺皇帝，顛覆清廷！」

【公民科：第 1-2 章，第 28-40 題，每題 2.5 分；共 32.5 分】

28. 中油第三座液化天然氣接收站興建計畫，因涉及大潭藻礁生態保育，環團與桃園在地居民發起搶救藻礁公投連署，目前連署份數已超過安全門檻，「珍愛藻礁公投」連署，幾乎確定成案。大潭藻礁保育案，將是台灣史上第一個由民間發起成案的生態保育類公投，意義不容小覷。請問人民可以透過投票表達對藻礁政策的看法，是屬於哪一項憲法保障的基本權利？

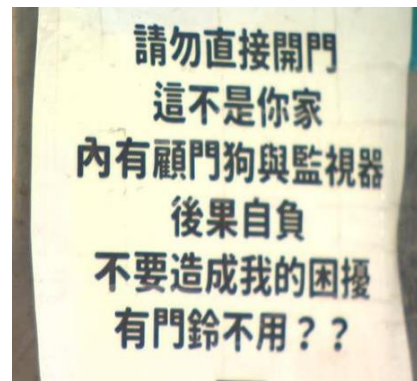
- (A)平等權
(B)自由權

- (C)參政權
(D)受益權。

29. 新聞報導，一名女子 PO 網，說自己從來沒有訂過外送，住家卻遭美食外送平台的外送員無端闖入。驚恐之餘，特別在門口張貼告示如

右：請問，這位受到驚嚇的女子，是哪一項憲法所保障的人民基本權利被侵犯？

- (A)平等權
(B)自由權
(C)參政權
(D)受益權。



30. 我國的《憲法》是國家根本大法，憲法的修改須慎重與周延，修改程序最為嚴謹，請問下列何者符合《憲法》修訂程序？

- (A)立法委員、行政、司法、考試、監察院提案→立法院三讀表決通過→總統公布
(B)立法委員提議→立法院決議，提出修正案→公告半年→公民投票複決
(C)國民制憲大會訂定→立法院決議通過→公告半年→公民投票複決
(D)立法委員提議→行政機關修訂→公告半年→總統公布。

31. 憲法的分類最主要有兩種途徑：一是以法典型式為準，分為成文與不成文憲法；一是以修改難度為準，分為剛性憲法與柔性憲法。《憲法》是我國家根本大法，不宜朝三暮四地修改變動，所以修改難度高、程序嚴謹，比普通法律困難，以增加憲法何種特性？

- (A)穩定性
(B)最高性
(C)原則性
(D)根本性。

32. 台灣每年夏、秋兩季常有颱風侵襲。各縣市地方政府首長視天氣狀況，根據《天然災害停止上班及上課作業辦法》和《天然災害發生事業單位勞工出勤管理及工資給付要點》，發布是否上班上課的訊息。請問是否放颱風假的訊息屬於法律的何種層級？

- (A)憲法
(B)法律
(C)命令
(D)緊急命令。

33. 我國憲法是人民權利的保障書，明確規範人民基本權利義務的內涵，下列何人的行為違背《憲法》所規定的人民基本義務？

- (A)國中八年級的彥祖天天翹課逃學
(B)高中生吳恩在網路上公開暗戀女同學的電話等個資
(C)具法定年齡的登元不領罷免票
(D)公司大老闆昕濤堅持辭退不適任的員工。

34. 行政法是一套規範國家行政權之組織、作用及救濟方式暨程序之國內公法，下列選項中，哪些有關行政法的敘述正確？(甲)明定政府行政行為必須依據的法規，以免濫權 (乙)行政法並非一部獨立或專屬的法典 (丙)藉由憲法之補充，

使其規範的內容須具體化 (丁) 人民有遵守行政法的義務，違反行政法規時，須承擔行政責任。

- (A) 甲乙丙
- (B) 甲乙丁
- (C) 乙丙丁
- (D) 甲丙丁。

35. 行政法是與國家行政權運作相關的一系列法律，其規定往往與人民的權利義務密不可分，每個人從出生到死亡，無論是權利的行使或義務的承擔，都涉及行政法，以下哪些生活中的行為，受到行政法的規範？(甲) 新生兒辦理出生登記 (乙) 親人死亡後的遺產繼承 (丙) 國民中學畢業領取畢業證書 (丁) 就業後確實繳納所得稅。

- (A) 甲乙丙
- (B) 甲乙丁
- (C) 乙丙丁
- (D) 甲丙丁。

36. 新聞報導：26 歲陳姓男子去年居家檢疫期間，他的好友特意到鐵捲門外陪他聊天，每次都聊超過 15 分鐘，聊天期間好友因內急，進入隔離處所借用廁所被民眾檢舉。南投縣衛生局調閱監視器，發現陳男的好友曾入內借廁所，因而開罰 20 萬元，移送行政執行署彰化分署執行，陳男請求「以關代罰」，但行政罰沒有易服勞役制度，只好忍痛分期付款。請問，南投縣衛生局調閱監視器後，對他進行了何種處置？

- (A) 判刑
- (B) 拘留
- (C) 罰鍰
- (D) 罰金。

37. 《性別工作平等法》規定女性受雇者因生理期導致工作有困難者，每月可請生理假 1 日，全年請假日數未逾 3 日，不併入病假計算，其餘日數併入病假計算。此一規定讓女性受雇者在請完 30 天病假後，還能有 3 天生理假可申請，全年病假日數未超過 30 日的部分，還可以領到半薪；如果已經用完 30 日病假額度，仍有 3 日不支薪的生理假，不影響考績和全勤。請問，根據上述，彰顯政府制定《性別工作平等法》何項目的？

- (A) 維護社會公共秩序
- (B) 促進社會進步
- (C) 彰顯主權在民
- (D) 保障人民權利。

※題組：幼稚的詰佑晚上在河堤散步時，一時興起跟蹤了一個老阿嬤，造成老阿嬤極度驚恐，這時剛好有巡邏員警經過勸並阻止，但詰佑仍執意繼續跟蹤。員警只好依法對詰佑處以新臺幣三千元罰鍰。

38. 上述，文中畫底線處屬於行政機關的何種作為？

- (A) 行政罰
- (B) 行政訴訟
- (C) 行政管制
- (D) 行政命令。

39. 根據敘述，請問詰佑的行為，最可能觸犯下列哪一種法律的規定？

- (A) 《道路交通管理處罰條例》

(B) 《刑法》

(C) 《社會秩序維護法》

(D) 《民法》。

40. 詰佑事後對於警方的處理方式相當不滿，隔天立刻向法院提起行政訴訟卻被駁回。請問，最可能的原因為何？

- (A) 詰佑跟蹤阿嬤證據確鑿無法翻案
- (B) 針對跟蹤的處罰無權提起行政訴訟
- (C) 行政訴訟應向裁罰的警察局提出
- (D) 必須先提起訴願的程序。

解答

1-5 BDBCA

6-10 CABDA

11-15DBCDB

16-20 CBDCA

21-25 CCDAD

26-30 BACBB

31-35 ACABD

36-40 CDCCD

本校段考試題僅供教學相關使用，非經出題老師同意，請勿私自將試題編輯於商用之教科書或參考書中，若經發現，將保留法律追溯權。

109 學年度 第二學期 第一定期評量 八年級 社會科 解答

1-5 BDBCA

6-10 CABDA

11-15DBCDB

16-20 CBDCA

21-25 CCDAD

26-30 BACBB

31-35 ACABD

36-40 CDCCD