

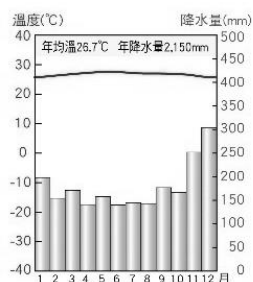
【地理科:第 3-4 課, 第 1-13 題, 每題 2.5 分; 共 32.5 分】

1. 西元 2019 年 8 月, 臺北市觀光傳播局接待馬來西亞演員與知名網紅, 宣傳七夕活動與臺北觀光旅遊, 吸引許多遊客參與。請問: 臺北市與馬來西亞的合作, 反映出政府希望大量拓展哪一種宗教信仰的旅客?

- (A) 印度教 (B) 佛教
(C) 伊斯蘭教 (D) 天主教

2. 小美全家人計畫在暑假出國旅遊, 她事先蒐集一些相關的旅遊資料, 右圖為該地區的氣候圖, 請由此圖判斷, 她應該是要去哪個地區旅遊?

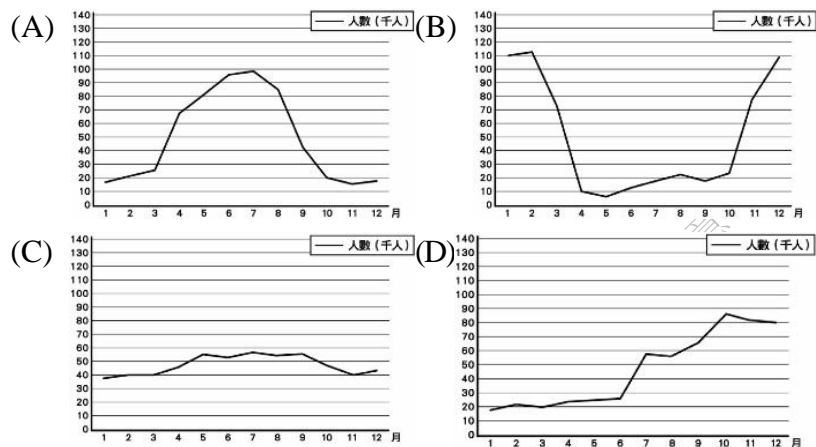
- (A) 新加坡 (B) 印度
(C) 日本 (D) 泰國



3. 世界各國為了達到區域間的經濟成長, 並提升競爭力, 紛紛成立區域性的經濟組織。其中, 東南亞國家協會於西元 2020 年, 更結合了周邊的中國、日本、南韓、澳洲、紐西蘭等國簽署完成「區域全面經濟夥伴協定(RCEP)」, 企圖發展成為全球規模最大的自由貿易市場。請問: 上述的「區域全面經濟夥伴協定(RCEP)」包含世界哪些洲別的國家?

- (A) 亞洲、非洲 (B) 歐洲、北美洲
(C) 亞洲、大洋洲 (D) 歐洲、非洲。

4. 印度近年來大力推廣國際觀光, 希望世界各國的旅客都能到印度旅遊; 但是, 受到氣候影響, 印度觀光旅遊局透過統計數據發現, 各月的旅遊人次有顯著的差異。請問: 下列哪一張圖最可能是印度觀光局的國際旅客人次統計圖?



5. 新聞報導: 「臺灣的新南向政策, 是期望深化與東南亞、南亞等國的合作, 其中尤以越南、印尼、菲律賓與印度為重要的新興潛力國。」根據上述報導, 與臺灣合作的新興潛力國, 最重要的優勢為何?

- (A) 進步的技術
(B) 充沛且廉價的勞動力
(C) 優惠的減稅政策
(D) 基礎設施完善吸引外商投資

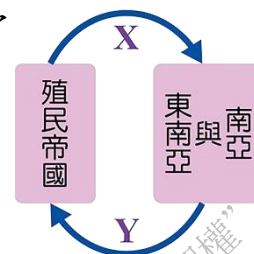
6. 某地區由於氣候溼熱, 非常適合熱帶栽培業的發展, 因此地理老師請大家回去研究這種產業所具有的特徵, 並於上課中討論, 請問: 下列哪一位同學的說法最正確?

- (A) 小楷: 熱帶栽培業是一種粗放型的農業
(B) 阿亞: 所種植出來的作物, 主要是為了供應國內市場需求
(C) 小蕙: 常見的作物有茶葉、棉花
(D) 阿忠: 資金和技術掌控在已開發國家的手中

7. 人口紅利是指因為勞動人口在人口總數中的比例上升, 容易吸引跨國企業前往投資勞力密集型產業, 有助於經濟成長; 請問: 下列哪一個國家的人口紅利最高?

- (A) 臺灣 (B) 南韓 (C) 越南 (D) 英國

8. 隨著大航海時代的開始, 西方殖民國為了掠奪資源, 積極於東南亞、南亞等海外地區尋找殖民地。右圖為殖民帝國與被殖民國家之間的互動關係圖,



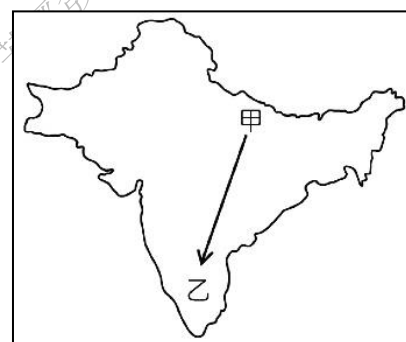
圖中的「Y」應填入那些選項?

- (甲) 農業原料 (乙) 技術 (丙) 資金
(丁) 工業半成品; 正確的是:
(A) 甲乙 (B) 乙丙 (C) 丙丁 (D) 甲丁

◎右下圖為南亞印度半島的簡圖, 請依圖回答 9—10 題:

9. 乘飛機由甲往乙前進時, 地表所呈現的景觀為何?

- (A) 高原→平原→山地
(B) 山地→平原→高原
(C) 高原→山地→平原
(D) 山地→高原→平原。



10. 南亞恆河平原和中國鄱陽盆地的緯度相近, 但一月的月均溫, 恆河平原卻比鄱陽盆地高 10°C 左右, 形成這種差異

的原因, 主要是因為恆河平原具備下列何項特性所致?

- (A) 境內湖泊眾多
(B) 太陽輻射較強
(C) 午後多對流雨
(D) 北有高山屏障

◎根據下列文章回答 11--13 題:

「西元 2018 年某月, 泰國少年足球隊前往該國的「睡美人洞」探險。由於當時正逢雨季, 連日大雨使洞穴水位高漲, 全隊受困於洞穴之中。為了降低搶救的難度, 救難隊出動大型抽水機至洞穴抽取積水, 而抽出的汙水排放至鄰近的農地, 也導致超過 2 平方公里以上栽種糧食的農田受到影響。根據救難隊員表示, 救出的隊員中, 其中一名是「佤族」人。佤族是中南半島北部的少數民族, 因此該佤族隊員除了自己的母語和泰語之外, 還會鄰近兩個國家的語言。」

11. 根據泰國的氣候類型判斷, 該少年足球隊最可能在幾月前往睡美人洞探險?

- (A) 一月 (B) 四月 (C) 七月 (D) 十二月

12. 文中所提到受大量汙水影響的農田, 最有可能是栽種下列哪一種糧食作物?

- (A) 小麥 (B) 甘蔗 (C) 咖啡 (D) 稻米

13. 佤族是中南半島北部的少數民族, 依位置判斷, 其語言文化應受到下列哪一個國家的影響最深?

- (A) 印度 (B) 中國 (C) 日本 (D) 美國

【歷史科:第 3-4 課, 第 14-27 題, 每題 2.5 分; 共 35 分】

14. 阿敏是中國的一位學生, 某時期開始生活中出現自己不是很熟悉的貨幣制度, 當時國家還興辦了各種鐵公路與航空業, 甚至有三家航空公司, 依照上述, 阿敏應該生活在下列哪一時期?

- (A)清末 (B)軍政時期(C)訓政時期(D)憲政時期
15. 國民政府對共產黨發動了五次的圍剿，採取「三分軍事七分政治」的方針；命令部隊切斷紅軍的外來補給。國民政府最終將紅軍趕出了江西瑞金基地，紅軍一路撤退到陝北延安一帶，直到「某事」的發生後，共產黨才得以轉危為安，請問「某事」應為下列何者事件？
(A)九一八事變(B)南京大屠殺(C)珍珠港事變(D)西安事變
16. 該時期的香港物資、企業、公共設施、人口與金融機構、貨幣等，都被日本政府給接管；其他亞洲國家如：馬來西亞、泰國、緬甸等也在其統治之下，日軍更用「Asia untuk orang Asia」(亞洲人的亞洲)為口號，以尋求當地人的支持。該時期應為下列何者？
(A)1930-1935 年 (B)1936-1940 年
(C)1941-1945 年 (D)1946-1950 年
17. 溥儀人生當中曾經三次登基，並在最後一次的登基中擔任了十幾年的皇帝，帝國結束時在日記裡寫到：「我五遊滿宮……其地在市塵之外，積雪籠罩了一切，車馬之聲幾絕，雞犬之聲無聞，固已寂寥如墟墓。其時又值冬天晷短，西邊黯淡的斜日，格外映出一片淒涼景色。這些都正是象徵了滿洲國的末日。」其政權的建立應為下列哪一事件相關？
(A)大東亞共榮圈
(B)南進政策
(C)七七盧溝橋事變
(D)九一八事變
18. 在《活著》電影內描述著一位父親與他的孩子的對話：父親說：「我們的家，現在就是一隻小雞，雞長大了就會變成鵝，鵝長大了就會變成羊，羊長大了就會變成牛。」兒子問：「牛以後呢？」父親說：「牛以後就是共產主義了，就天天吃餃子、天天吃肉了。」然而此時各種建設強調「多、快、好、省」的前提下，施工品質不佳，導致後來官員不小心開車撞倒了一面牆，壓死了這個孩子。解讀上述的內容後，請判斷下列哪一事件較不會出現在此時期？
(A)吹起浮誇風，各地虛報農業產量
(B)階級鬥爭，舉辦批鬥大會，打擊地主與知識份子
(C)土法煉鋼，興建高爐，以家中鐵器煉鋼
(D)興辦人民公社，提倡「吃飯不花錢，努力搞生產」
19. 在歷史課堂上，阿盧因為前一天晚上讀書太認真，導致課堂上沒有聽到重點，只看到了老師講到地圖上的重慶成為中華民國的首都，卻不知道是哪些事情導致而成，請你幫助阿盧補足這段「歷史的空缺」，應是以下何者？
(A)南京保衛戰失守導致遷都至重慶
(B)七七盧溝橋事變後首都由北平遷移至重慶
(C)上海淞滬會戰失敗導致遷都重慶
(D)珍珠港事變後以時間換取空間戰術遷都重慶
20. 中華民國政府在中國大陸實質統治了三十八年的時間，期間有許多的條款與法條，其中《動員戡亂時期臨時條款》一路施行到民國八十年才宣布廢止，其中的「戡亂」對象應為下列何者？
(A)軍閥 (B)蘇聯 (C)日本 (D)共產黨

21. 中國與日本在近代都曾因為西方列強的逼迫，開始現代化的歷程，而在這段歷程中，日本逐漸發展出對外侵略的野心，使中日雙方在近代曾多次交鋒。請將以下日本侵略中國的事件按時間順序排列：(甲)甲午戰爭(乙)九一八事變(丙)七七盧溝橋事變(丁)濟南慘案(戊)二十一條要求
(A)甲乙丁戊丙
(B)甲戊丁乙丙
(C)甲丁戊乙丙
(D)戊甲丁丙乙
22. 紀實電影《入戲》中，演員們在體驗著中國某一時期的生活模式，演員們一齊唱道：「敬祝領袖毛主席萬壽無疆」，並在生活公約中寫道「所有演員以劇組為家，要共同維護大家庭的共同利益，所有演員沒有假期，不准請假。」然而有一位演員因家中變故，欲向劇組請假，劇組並沒有答應他的要求，還請其他演員一起開了一場批鬥大會，使這位演員「不再想家」。上述內容所體驗的時期應為下列何者？
(A)文化大革命 (B)大躍進 (C)十年建設 (D)國共內戰
23. 1929 年開始全世界經歷了 20 世紀最嚴重的一次經濟危機，稱為「經濟大恐慌」，該事件造成了各國經濟的蕭條，對已開發國家和開發中國家都帶來了毀滅性打擊，美國失業率飆升到 25%；德國方面，因一戰賠款與失業率飆升，1932 年失業率飆升至 30%。在世界的另一端，此時的日本可能出現哪些景象？
(A)為掠奪美國的殖民地，發動珍珠港事變
(B)軍國主義興起，臺灣成為南進基地
(C)美軍投下原子彈，日本宣布無條件投降
(D)日本以速戰速決為行動準則，向中國侵略
24. 1960 年代在全世界掀起了一波革命風潮，強調「革命無罪、造反有理」讓世界許多地方紛紛響應。例如法國在 1968 年大規模的學運中，就有許多相關的思想與服飾上的展現；日本的學生運動中也有人主張共產思想等；美國方面則因種族議題日趨嚴重，黑人族群開始挺身抵制種族歧視。根據上述，此時的中國可能出現哪些景象？
(A)紅衛兵對毛澤東偶像崇拜，並燒毀書籍與破壞歷史文物
(B)國家處於內戰狀態，國民黨與共產黨爭奪統治權
(C)政府提供人民住所，且提供大鍋飯讓人民享用
(D)國家處於戰爭時期，國民黨與共產黨聯合對抗外敵
- 題組：**請依照下列內容回答 25-27 題
- 美國總統杜魯門派遣馬歇爾來華時，曾明確表示，大規模對華援助的前提是以實現國家統一為條件，馬歇爾也曾經警告蔣中正，美國將不支援中國內戰，而急劇上升的通貨膨脹導致經濟的崩潰，然而蔣中正還是一意孤行的對共產黨開戰；另一方面，中共與蘇聯訂立協定，蘇聯對中共增援，武器源源而來，加上繼承東北日軍留下的武器，使其有資本與蔣中正抗衡；此外，共產黨所施行的「策略」深得一般農民的心，也使得國共內戰過程中，農民與一般人民逐漸向中共靠攏。
25. 依照上述內容判斷，國共內戰當中，國民黨失敗的原因應為下列何者？
(A)國民黨與蘇聯不合，蘇聯轉而與中共合作
(B)馬歇爾來華調停，並且提供中共許多武器

- (C)蔣介石的經濟政策出現問題導致通貨膨脹
(D)東北的日本軍隊與中共合作提供武器資源
26. 依照上述內容中共產黨所施行的「策略」內容應該屬於下列何者？
(A)施行「貨幣改革」，讓民生經濟獲得復甦
(B)施行「破壞交通」，讓國軍困守城市中
(C)施行「游擊戰」，讓國軍疲於奔命追趕
(D)施行「平均地權」，對人民示好擴大兵源
27. 東北的武器資源是因為下列哪一場侵略的終結而遺留下來的？
(A)第一次世界大戰 (B)中日戰爭
(C)日俄戰爭 (D)七七盧溝橋事變

【公民科：第 3-4 課，第 28-40 題，每題 2.5 分；共 32.5 分】

28. 2019 年末，在韓國發生一起震驚社會的犯罪事件，趙姓主嫌等人誘拐達 74 名女性（其中 16 名未成年）拍攝性侵害、性虐待影片，並於社群軟體 Telegram 的「N 號房」裡分享，引發全韓國人民震怒。韓國人民發動連署要求公開 26 萬名會員資料，警方更破例將 25 歲的趙姓主嫌長相示眾，成為第一位韓國因性犯罪被公開示眾的嫌犯。請問，以上駭人聽聞的犯行，如果發生在台灣，除了適用《刑法》的「妨害性自主」罪章、「性侵害犯罪防治法」外，哪個法律也能嚴懲其犯罪行為？
(A)《兒童權利公約》
(B)《兒童及少年性剝削防制條例》
(C)《兒童及少年福利與權益保障法》
(D)《社會秩序維護法》
29. 段考完後，八年級的小祖與小騏相約到網咖玩線上遊戲，徹夜未歸，剛好遇到警察臨檢查獲，並通知兩人的父母到警局說明，並將兩人領回。警察表示，這是根據相關法規所規定的措施，不得讓未成年者出入不良場所。關於上述內容，下列何者正確？
(A)相關法規指的是《兒童及少年福利與權益保障法》的福利措施
(B)相關法規指的是《民法》中關於親權與懲戒權的規定
(C)上述事件性質與不得提供未成年閱讀色情刊物等不良出版品的規定相同
(D)網咖業者的違規行為，將依法處以罰金並公布其姓名
30. 承上題，關於警方的處理措施，下列敘述何者最為適當？
(A)防制兒少遭受任何形式的性剝削
(B)限制與剝奪兒少的人身自由
(C)檢視兒少處境所採取的安置措施
(D)要求成年人善盡對兒少的照顧責任
31. 家境貧寒的 15 歲少年治中在法定代理人的同意下，到超商打工，請問有關未成年打工的內容下列何者正確？
(A)法律依據為《兒童及少年福利與權益保障法》
(B)法律依據為《勞動基準法》
(C)未滿 14 歲者禁止工作，14~16 歲的受雇者稱為童工
(D)如未成年在自家場所打工，即可不受任何法律的規範
32. 聞訊：新竹縣竹北市 1 名 3 歲洪姓女童獨自在家，疑似睡醒找不到媽媽，不慎從 9 樓住處窗戶墜落，其母送完哥哥上課返家不見女童蹤影，著急下樓拜託保全幫忙找人，透過監視器才發現女童墜樓，緊急送醫搶救，很遺憾的，女童仍因頭部、胸部傷勢過重不治。請問，針對內文劃線處，該名女童的母親可

能要負起什麼法律責任？

- (A)罰金
(B)罰鍰
(C)有期徒刑
(D)拘留

33. 下課閒聊時，八年級的幾個同學七嘴八舌的展現公民課上所學的相關法律知識，請問以下何者同學的說法是正確的？

小妤：15 歲的小珠上網張貼援交訊息，從事色情交易違反《兒童及少年性剝削防制條例》

小亮：目睹父親動手毆打母親的大雄可依《民法》申請保護令

阿翔：未成年打工不能從事繁重及危險的工作，是受《兒童及少年福利與權益保障法》的規範

昊昊：根據聯合國《兒童權利公約》的定義，我們五峰國中的每個學生都是「兒童」。

- (A)小妤、小亮
(B)小亮、阿翔
(C)昊昊
(D)小妤、昊昊

34. 右列海報是關於惡意散播食安假訊息損害公眾或他人行為的處罰，與下列何者所應負起的法律責任類型相同？

- (A)父母餵食孩童啤酒
(B)網路匿名辱罵同學
(C)跟蹤老阿嬤回家
(D)在牆壁亂塗鴉



35. 愷哥在捷運上被一名男子襲臀，民眾拍下畫面並通知捷運警察，該男子因違反《性騷擾防治法》遭判處拘役 30 天。請問該男子所受的處罰，下列敘述何者正確？

- (A)須經由法院判決才可執行
(B)是由捷運警察所做的行政處分
(C)是屬於不能獨立科處的從刑
(D)是一種剝奪資格的處分。

36. 右列所看到的部分《刑法》條文，根據文中法條內容判斷，彰顯出《刑法》的何種特色？

- (A)何種行為構成犯罪
(B)犯罪之後要如何處罰
(C)行政責任的刑罰
(D)刑罰是手段，但並非萬能

《刑法》

第 328 條：……強盜罪，處五年以上有期徒刑。

第 349 條：贓物罪，處五年以上有期徒刑、拘役或科或併科五十萬元以下罰金。

37. 新聞報導：七歲黃姓男童，到何姓教練開設的道館上課，竟在 90 分鐘內被重摔 27 次，當場昏迷，送醫後因顱內出血嚴重腦傷，開刀後仍被醫師判定腦死。台中地檢署傳喚何姓教練，偵訊後以何男涉嫌傷害致重傷罪，且有串證之虞，向法院聲請羈押禁見獲准。新聞曝光後引發社會各界撻伐，而且還有兩名男子到柔道館丟雞蛋、撒冥紙，現場慘不忍睹。路過民眾見狀立刻報警，員警趕到現場逮捕這兩名男子，並依法將他們函送法辦。請問，根據上述新聞判斷，下列何者敘述錯誤？

- (A)警方應該是依社會秩序維護法將那兩名丟雞蛋、撒冥紙的男子函送法辦。

- (B)何姓教練與兩名丟雞蛋、撒冥紙的男子，在行為上都涉嫌違法
- (C)何姓教練與兩名丟雞蛋、撒冥紙的男子，在行為上都涉嫌犯罪
- (D)兩名丟雞蛋、撒冥紙的男子行為，是以牙還牙的報復行為

38.《刑法》是與犯罪有關聯的法律，其目的在於保護生命、身體、財產等相關法益，並懲罰違反規範的行為。下列關於《刑法》的敘述何者正確？

- (A)以明確的法律條文約束國家的行政權
- (B)處置犯罪者、控制人民的依據
- (C)刑罰的制裁重則剝奪犯罪者的生命，輕則剝奪其自由、財產等權利
- (D)法律優越原則，執行刑法不得牴觸憲法。

39. 五歲的林小弟父母離異，由媽媽撫養，某天因為身體不舒服而哭鬧，被情緒失控的媽媽毆打成重傷，法院依「法」停止林小弟的媽媽行使親權。請問上文中的依「法」是指哪一法律？

- (A)《兒童權利公約施行法》
- (B)《家庭暴力防治法》
- (C)《兒童及少年福利與權益保障法》
- (D)《民法》

40.

台鐵太魯閣號出軌釀 49 死重大事故，將工程車摔落至鐵軌的承包商負責人李義祥被依過失致死等罪嫌起訴；但是，外界驚覺不論過失致死造成多少條人命殞落，刑期最多只有 5 年，認為刑期太輕；法務部為此加速研修，17 天提出加重處罰草案。行政院日前表示，法務部已將修法草案條文送院審查，行政院將立即排審，盼盡速送立法院審議。

根據上述新聞內容，下列何者敘述正確？

- (A)舉國矚目之重大案件，因此將由行政院法務部加速研修，盡速完成相關修法程序，提高刑責，彌補法律懲處的不足
- (B)國家行使刑罰權，必須依法行政，符合《刑法》內涵，賦予國家動用刑罰權的正當性
- (C)五年的刑期屬於剝奪身體自由的拘役
- (D)五年的刑期屬於微罪的從刑，造成 49 死的重大事務，法官應按照民意從重量刑，以符合比例原則

109-2 八年級 社會科第二次段考 解答

1-5	6-10	11-15	15-20
CACBB	DCDBD	CDBCD	CDBA 與 CD
21-25	26-30	31-35	36-40
BABAC	DBBCD	BBDBA	BCCDB