

答案卡需用 2B 鉛筆作答。

【地理科:第 1-6 冊 1-3 章, 第 1-17 題, 每題 2 分; 共 34 分】

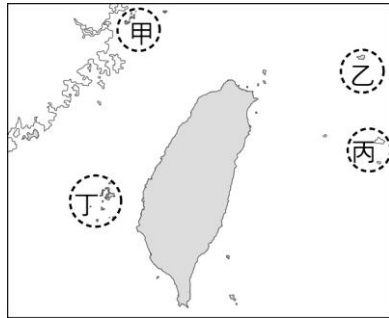
1. 右表是四種不同產業特性的說明。若僅考慮表中的產品特性, 何者的設廠地點應盡量接近市場?

- (A) 甲 (B) 乙  
(C) 丙 (D) 丁

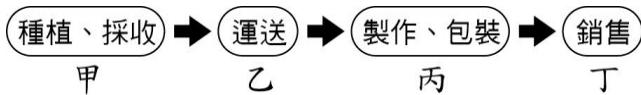
產品	特性
甲	100 公斤原料可製成 10 公斤產品
乙	製作產品時需大量勞工
丙	原料加工成產品後易破碎
丁	原料加工成產品前易腐敗

2. 「2021 年 3 月 14 日即時新聞/綜合報導」中國在 1 月通過海警法, 在 2 月 1 日開始實施後, 中方出動海警船侵擾釣魚臺列嶼, 令中日兩國在釣魚臺列嶼的主權爭議越演越烈。而我國政府自始即宣稱釣魚臺列嶼是我國固有之國土。請問: 上述島嶼位於右圖中的哪一個海域?

- (A) 甲 (B) 乙 (C) 丙 (D) 丁



3. 【中國國台辦於 2021 年 2 月 26 日指出, 中國海關自去年以來, 多次從台灣輸入中國的鳳梨「截獲檢疫性有害生物」, 因此決定 3 月 1 日起暫停進口台灣鳳梨。】鳳梨一直是臺灣重要的作物之一, 也是製作鳳梨酥的材料, 近年來鳳梨酥成為國人及外國遊客喜愛的伴手禮之一, 產值逐年上升。下圖為鳳梨酥產銷過程的示意圖, 甲、乙、丙、丁哪些屬於第三級產業?



- (A) 甲乙 (B) 甲丙 (C) 乙丁 (D) 丙丁

4. 中國某行政區的南部位於農牧過渡地帶, 因氣候乾燥少雨、生態環境脆弱、水土流失嚴重及自然災害頻繁, 被聯合國認為是最不適宜人類生存的地區之一, 因此 2011 年當地政府實施搬遷計畫。上述行政區應是右圖中何者?

- (A) 甲 (B) 乙 (C) 丙 (D) 丁



5. 右圖為根據自然和人文的綜合數據, 繪製的重要地理分界帶。此分界帶大致為下列何種現象的過渡區?

- (A) 產業: 農業區與畜牧區  
(B) 水文: 內流區與外流區  
(C) 氣候: 溫帶季風與副熱帶季風  
(D) 地形: 第二級階梯與第三級階梯



6. (中央社開羅 25 日綜合外電報導) 長榮海運巨型貨櫃輪「長賜輪」23 日意外擱淺蘇伊士運河, 造成航道阻塞, 影響運河的航運; 挖土機正努力的清除船底淤泥。仍待脫困, 初估蘇伊士運河受阻貨貿每小時損失約 4 億美元 (約新台幣 114 億)。請問: 下列有關蘇伊士運河的相關敘述何者正確?

- (A) 連接地中海和黑海  
(B) 橫跨亞洲和非洲交界  
(C) 位於埃及西奈半島東側  
(D) 是亞洲和美洲的短途人工運輸路線

7 附表有關大洋洲的各項資料, 其中何者「錯誤」?

- (A) 甲 (B) 乙 (C) 丙 (D) 丁。

項目	說明
(甲) 位置	位於亞洲與歐洲之間, 戰略地位重要。
(乙) 氣候	大部分屬於熱帶氣候, 但有海洋調節, 涼爽宜人。
(丙) 分區	可分為密克羅尼西亞、美拉尼西亞、玻里尼西亞三大島群。
(丁) 特色	是全球迎接新年第一道曙光的地區。

8. 跨國企業以國際分工模式, 將企業中的研發、設計、加工、行銷等不同部門設立於不同地區, 待產品完成後再銷往世界各地。此作法是為了在世界各地尋找最廣大的市場, 及下列何項條件的地點?

- (A) 最優質的勞工 (B) 最低廉的成本  
(C) 最豐富的礦產 (D) 最便利的交通

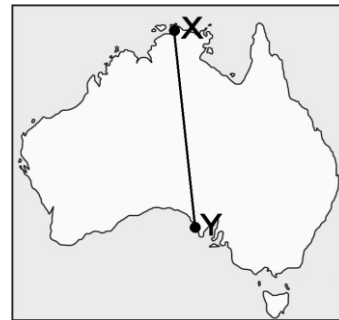
9. 附表為紐西蘭的南島與北島比較, 下列何者「錯誤」?

- (A) 面積 (B) 人口 (C) 緯度 (D) 地形特徵

	北島	南島
面積	較小	較大
人口	較多	較少
緯度	較高	較低
地形特徵	熔岩臺地 火山地形	冰河地形

10. 附圖為澳洲簡圖。若曉明由 x 往 y 直線旅行, 沿途最「不可能」遇到何種氣候類型?

- (A) 熱帶莽原氣候 (B) 夏雨型暖溫帶氣候  
(C) 熱帶沙漠氣候 (D) 溫帶地中海型氣候

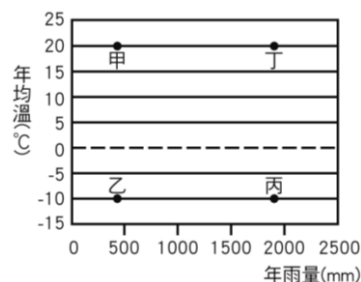


11. 小御做了一個南北極的比較表格如下, 請問: 下列何者正確?

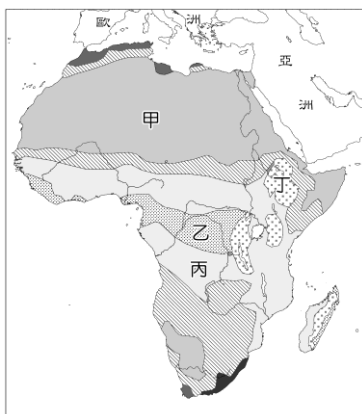
	南 極	北 極
(A)	中心是南極大陸	中心是格陵蘭島
(B)	天氣冷, 無動物棲息	企鵝生態是當地的重要觀光景點
(C)	當地居民為毛利人	居民是因紐特人
(D)	是科學研究的重要基地	是亞、北美、歐三洲空運來往的交通要地

12. 在非洲有種原始性農業，族人在乾季末期耕種之前，得先把森林中一小塊地面上的樹林燒掉，農民藉由焚燒森林以取土地，林木的灰燼成為農地的天然肥料，故有「火耕」之稱。然後種山芋和樹薯。他們以掘棒、鋤等傳統農具耕作，並不施肥，三、五年後需更換新耕地，因此適合在人口密度較低的地區實施。請問：附圖中的哪種自然環境，較適合採行此種游耕的方式？

(A)甲 (B)乙 (C)丙 (D)丁

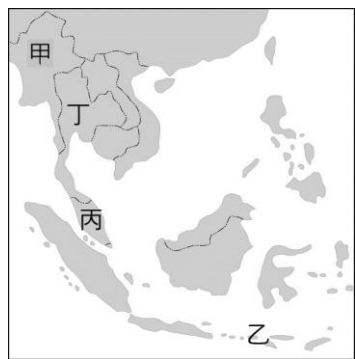


13. 承上題，附圖是非洲的氣候分區圖，上文所述的耕作區最有可能是在附圖中哪個地區？



(A) 甲 (B)乙 (C)丙 (D)丁

14. 2021 年緬甸軍事政變，是因為緬甸國防軍指責緬甸現在的執政黨全國民主聯盟在 2020 年 11 月 8 日的 2020 年緬甸議會選舉中有選舉舞弊，所以在 2021 年 2 月 1 日上午發動一場軍事政變。政變以緬甸國防軍成功推翻由翁山蘇姬所領導的全國民主聯盟政權而告一段落。附圖是東南亞的區域圖，有關緬甸的特色，下列敘述何者正確？



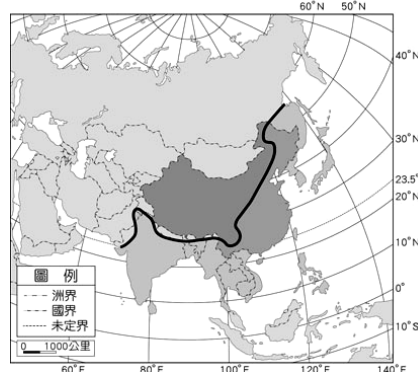
(A)位於圖中「甲」的位置  
(B)位於板塊交界帶，多火山、地震  
(C)屬熱帶季風氣候，終年高溫多雨  
(D)伊斯蘭教是本區主要的宗教

15. 塞繆爾·帕蒂 (Samuel Paty)，一位在巴黎近郊高中教授歷史和地理的老師，2020 年 10 月 6 日在上公民與道德課程時，使用《查理週刊》(Charlie Hebdo) 的嘲諷漫畫(此漫畫左：先知穆罕默德跪在地上的裸體畫像(生殖器露出)；右：《查理週刊》的某期封面，標題是：一切皆可以被容許)，講授言論自由。10 天後，帕蒂

被一名他不認識的 18 歲車臣難民，以「砍殺斬首」的方式殺害。請問依上述所示，此 18 歲車臣難民的主要宗教信仰應為下列何者？

(A)佛教 (B)印度教 (C)基督教 (D)伊斯蘭教

※季風亞洲是受季風影響的亞洲地區，如附圖。其界線西起塔爾沙漠東緣，向東經喜馬拉雅山脈、青藏高原東緣、大興安嶺一線以東的地區。請回答 16~17 題



16. 根據以上敘述，下列何者最有可能為此界線以東、以南地區的特徵？

(A)漢人居多  
(B)地勢平坦，缺乏山脈  
(C)傳統民居皆為斜頂設計  
(D)冬、夏風向相反，夏季為主要雨季

17 小御想要規畫一趟「季風亞洲」旅遊，下列哪些國家或地區可以列入她的行程之中？

(A) 甲乙丙 (B)甲乙丁 (C)甲丙丁 (D)丙丁戊

阿豪旅行社旅遊資訊 (5 月)

(甲)東北亞—日本北海道賞櫻花  
(乙)東亞—大漠絲路穿梭古今  
(丙)東南亞—菲律賓長灘島逍遙度假  
(丁)南亞—恆河與印度文明探查  
(戊)西亞—杜拜帆船飯店奢華之旅

【歷史科：康軒版本第 1-6 冊，第 18-33 題，每題 2 分；共 32 分】

18. 日本一位將領對某件事的評論如下：「頭六個月或一年大約是可以順利進攻的。但對於第二和第三年的戰事，我就毫無信心了...」，甚至在給家人的家書中也寫到：「戰爭終於要開始了，雖然現在到處充溢著熱鬧喧嘩，但這一切都會消失...○的勝利微不足道，不適合用來大肆宣傳，這樣會使日本人民忽略了事情的嚴重性，最重要的可能是會將一個本來意見不齊的國家動員起來...。」請問○最有可能是下列何者？

(A)九一八事變  
(B)盧溝橋事變  
(C)珍珠港事變  
(D)諾曼第登陸

19. 「最後的晚餐」位於米蘭一間修道院的食堂中，當初繪者使用的是新發明的混合顏料，導致畫作完成後不到半世紀便嚴重剝落，不僅如此，後來牆面被開了一道門，使畫面下方受到嚴重破壞。1796 年，法軍佔領米蘭時曾被當作馬房，二戰期間又遭受到猛烈的轟炸，所幸牆面沒有受到進一步的損傷，戰後政府成立修復小組，經過多年後搶修後終於得以重



答案卡需用 2B 鉛筆作答。

見天日。請問有關以上敘述的補充何者正確？

- (A)此畫作的作者應是米開朗基羅
- (B)占領的法軍將領應是指拿破崙
- (C)二戰期間是遭受德軍攻擊轟炸
- (D)修復工作由墨索里尼政府主導

20. 西元 1938 年，邱吉爾對英國政府的某項作為做出評論：「在戰爭和羞辱兩者之間作抉擇，你們選擇了羞辱，但你們最後還是會得到戰爭。」請問這個評論最有可能指的是下列何者？

- (A)凡爾賽條約要求德國負起戰爭責任
- (B)實施種族政策迫害猶太等弱勢族群
- (C)雅爾達會議同意蘇聯接收東歐地區
- (D)慕尼黑會議姑息德國併吞蘇臺德區

21. 西元 2005 年，為了紀念某個歷史人物的探險壯舉 600 週年發行了紀念郵票如下圖，請問以下何者最有可能是此人的貢獻？

- (A)沿海居民移居南洋地區
- (B)開通絲路促進文化交流
- (C)翻譯佛經使佛教中國化
- (D)發現非洲南端的好望角



22. 下表是某國領導人推動經濟政策改革的成果，請根據此表的數值推測應是下列何者最為合理？

項目	改革前 1927-1928	第一階段 1932-1933	第二階段 1937
國民所得(十億)	24.5	45.5	96.3
整體工業生產值(十億)	18.3	43.3	95.5
整體農業生產值(十億)	13.1	16.6	---
無煙煤產量(百萬噸)	35.4	64.3	128.0
鋼鐵產量(百萬噸)	5.9	12.1	17.7

- (A)列寧策動第三國際
- (B)希特勒的經濟重建
- (C)史達林的計畫經濟
- (D)羅斯福的新政措施

23. 以下是幾位不同國籍的人士對兩次大戰的發言，請配合地圖代號選出正確的內容：

- 甲國：我們在一戰時頻頻被丁國打敗，二戰前卻決定攜手合作對付乙國，真是世事難料。
- 丁國：一戰時和辛國同為盟友卻不幸戰敗，沒想到我們

二戰又要再一起面對相同的結局。

戊國：一戰時我們面對無限制潛艇政策堅守到最後，沒想到二戰一開始就敗在閃電戰術之下！

己國：一戰時因為和丁庚兩國兩面作戰的教訓，所以一戰後努力維持歐洲和平不惜犧牲丙國。

壬國：我們一戰時曾是丁國的盟友，沒想到二戰前竟然被併吞！

- (A)甲己
- (B)甲壬
- (C)丁戊
- (D)己壬



24. 「他們認為政府若沒有多數人民的授權還實行暴政，人民就不應該履行國民義務。在這一波反抗運動當中，範圍包括了政治、教育、經濟及社會等層面。公務員、法官、職員都辭職了，法院、學校無人過問，政府收入銳減，銀行和工廠也岌岌可危，如果政府將這些人逮捕，他們也不抵抗，從容就範卻誓死不從。全國從鄉村到城市，升起團結的情緒，終究讓政府不得不讓步……。」請問以上敘述最適合的標題為何？

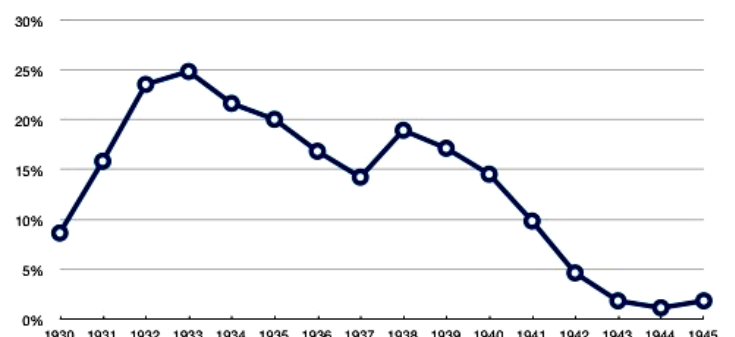
- (A)波士頓茶葉事件
- (B)臺灣非武裝運動
- (C)朝鮮的三一運動
- (D)印度不合作運動

25. 西元 1945 年聯合國成立，取代國際聯盟以防止戰爭的發生並為各國提供對話平臺，總部設於紐約。當中設有諸多組織，以下有關安全理事會的相關敘述何者正確？

- (A)安理會常任理事國成員包含美中英德法
- (B)戰後美中長期對峙影響安理會發揮功能
- (C)常任理事國可用否決權決定議案存廢
- (D)1971 年投票同意中華人民共和國入會

26. 下圖是某國自 1930 年到 1945 年的某項數據圖，請依據數值的變化判斷這張圖的標題應該是下列何者？

- (A)德國的就業率
- (B)美國的失業率
- (C)英國的死亡率
- (D)法國的出生率



請閱讀以下短文後回答第 27～30 題：

西班牙人將大部分的美洲銀礦送回國內，或用銀從國外進口大量物品。另一方面，部分美洲白銀橫跨太平洋，透過全球最長的航線運給位在□的長官，拿來購買亞洲物品。在美洲生產的銀就這樣透過貿易網絡聚集到中國和印度。當時，除了美洲之外銀產量最多的國家是日本，通常由長崎港出發前往中國。此時，中國改以銀圓繳納租稅，使銀的需求量增加，全球的銀更加速流入中國。在這時期除了白銀以外，△也橫渡太平洋從福建、廣東進入中國，逐漸成為中國人生活的一部分。

27. 請問文中的□指的最有可能是以下哪一個地方？

- (A)馬尼拉 (B)澳門 (C)巴達維亞 (D)廣州

28. 以下哪一國商人是主要將日本白銀運出國貿易的媒介？

- (A)荷蘭 (B)西班牙 (C)葡萄牙 (D)英國

29. 中國改用銀元繳納租稅是何人推動的政策？

- (A)商鞅 (B)王莽 (C)王安石 (D)張居正

30. 請問文中的△最適合放入以下哪一句？

- (A)印度種植的鴉片商品  
(B)天主教耶穌會傳教士  
(C)番薯玉米等糧食作物  
(D)民主科學等西方思潮

請閱讀以下短文後回答第 31～33 題：

王添灯(1901-1947)，新店安坑人，1931 年在臺北市開設文山茶行，從事茶葉出口生意，之後在大連、沖繩、新加坡都有分行，生意興隆。1930 年開始投入政治社會運動，與林獻堂等人籌組團體並成為分部負責人。之後，該團體成功爭取到臺人參政權。1946 年，當選省參議員，任內多次質詢政府接收貪污舞弊層出不窮。1947 年，擔任「處理委員會」委員，參與草擬處理大綱，卻成為日後「反抗中央背叛國家陰謀」的罪證。3 月 11 日凌晨，憲兵隊將王添灯自住處帶走後，從此下落不明。

31. 文山茶行在大連開設分行，將臺灣茶葉輸往中國東北，最有可能與哪個政府有往來？

- (A)滿洲國政府  
(B)中華民國政府  
(C)南京國民政府  
(D)中華人民共和國政府

32. 請問 1930 年王添灯所參與成立的組織應為以下何者？

- (A)臺灣議會設置請願運動  
(B)臺灣文化協會  
(C)臺灣民眾黨  
(D)臺灣地方自治聯盟

33. 王添灯的失蹤背景應是何者最為合理？

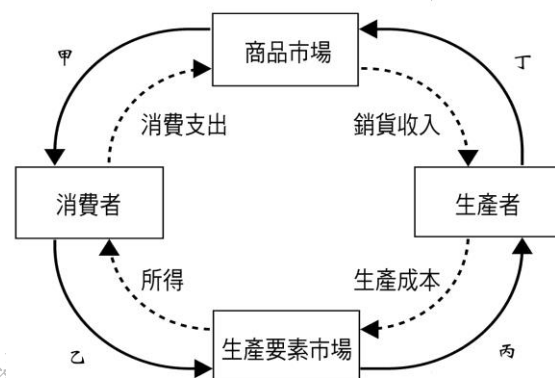
- (A)中日戰爭時，政府強行徵召臺灣人從軍  
(B)政府實施清鄉，以武力掃蕩反政府分子  
(C)國共內戰時，政府四處逮捕共產黨人士  
(D)白色恐怖時期，政府大力搜捕異議分子

【範圍：公民 B1-B6 第三課(34-50 題：每題 2 分，共 34 分)】

34. 會考後承萱與家人來到新竹縣新埔鎮，經過清水里社區發展協會，看到以下介紹：「居民大多以務農為主，已有兩百年歷史的元聖宮為居民的信仰中心，年節時誠心敬拜神明，舊時茶園古道竹林微風輕輕吹拂，彷彿置身仙境般身心舒暢。」根據上述內容判斷，下列關於該社區的敘述，何者正確？

- (A)居民參與宗教活動是受益權的表現  
(B)居民多住在高樓中，彼此關係緊密  
(C)清水里社區發展協會為社會性團體  
(D)新埔鎮的地方層級與基隆市相同。

35. 每年 6、7 月，一群剛從學校畢業的社會新鮮人投入市場中，各地區的廠商也多聯合舉辦就業博覽會，用以招攬人才。上述社會新鮮人屬於經濟活動循環中的哪個環節？



- (A)甲 (B)乙 (C)丙 (D)丁。

36. 九年十班舉行班會，討論校外教學的地點。下列何者必須經過一人以上「附署」才能成立？

- (A)琇儀因會議流程錯誤提出「秩序問題」  
(B)舒涵因會議中有同學喧鬧而提出「權宜問題」  
(C)承翰在會議進行中所提出的「動議」  
(D)政維在會議前以書面提出的「提案」。

37. 下列哪些歷史上流傳的故事，用現代的法律觀點來看，屬於刑法適用範圍？

	甲 班超投筆從戎 乙 祖逖聞雞起舞 丙 呂布刺殺董卓 丁 廖添丁劫富濟貧

- (A)甲乙 (B)甲丙 (C)丙丁 (D)乙丙。



38. 法律被稱為最低限度的道德，遵守法規不僅能維持社會和諧，更能確保每個人的權利，如若不遵守法律則應受到負起對應的責任。關於法律責任的比較列表如下，哪一項完全正確？

選項	(A)	(B)	(C)	(D)
行為	製造噪音	欠債不還	吸食毒品	逆向行駛
責任	刑事責任	民事責任	行政責任	行政責任
處罰	罰金	沒收	有期徒刑	罰鍰

39. 對於身心障礙者等弱勢群體，政府應該建置福利設施予以協助，讓他們能享有無障礙空間。下列何者是社會福利設施？

- (A)新北自行車道 (B)馬公公園停車格  
(C)新店行政園區輪椅坡道 (D)碧潭水舞表演。

40. 我國中央政府對於經費使用有其監督機制，請依據我國五院職權概念判斷，下列何者正確？



- (A)甲可提出憲法修正案、領土變更案、正副總統彈劾案  
(B)甲丙為同一單位，其院長產生方式由總統任命  
(C)乙可審查中央與地方政府預算案  
(D)丁設有懲戒法院，掌理公務員退休撫卹等事務。

41. 世界衛生組織與下列何種組織類型完全相同？

- (A)東南亞國家國協 (B)綠色和平組織  
(C)歐洲聯盟 (D)國際刑警組織。

42. 阿富汗總統到印度，印度當局表示將提供一筆 10 億美元的資金給予阿富汗，以協助其進行基礎的硬體建設，藉此增強兩國的友好關係。請問：上述國際互動方式與下列何者相同？

- (A)北韓的北部地區因為受到颱風侵襲而洪水成災，有數以萬計的災民無家可歸，國際糧食計畫署立即針對災民發營養強化餅乾及大豆。  
(B)日本知名的吉卜力動畫展來台展出，場內重現神隱少女、龍貓、魔女宅急便等宮崎駿的經典動畫場景。  
(C)宜蘭國際童玩節是亞洲第一個以兒童為主題，且獲認證的民俗藝術節。累積有 91 個國家、296 個國外團隊來台進行演出。  
(D)行政院農委會與印度政府簽署台灣與印度雙邊農業協議，共同推動農業、園藝、畜牧業、漁業、水產養殖及食品加工等領域之規畫、生產、加工與運銷。

43. 中華民國目前是哪一个官方國際組織的正式會員國？

- (A)EU (B)APEC (C)ICPO (D)ASEAN。

44. 承上題，請問我國以何種名稱加入該組織？

- (A)中華臺北 (B)中華民國  
(C)臺灣 (D)台澎金馬個別關稅領域。

45. 我國政府自 1993 年推動參與聯合國以來，不管是以何種名義加入，都希望能讓國際社會了解我國參與的意願。此作法是希望能達到下列何種目標？

- (A)拓展國際視野 (B)提升國際地位  
(C)增進國民素質 (D)維護世界和平。

46. 「2020 年 8 月 25 日為緬甸安全部隊在若開邦對羅興亞族發動種族清洗和危害人類罪行的 3 周年，致使數 10 萬羅興亞人於緬甸境內流離失所，74 萬人逃至鄰國孟加拉。羅興亞人被禁止自由行動，嚴格限制如食品和藥品的人道主義救濟，教育機會也極為有限、房舍破敗、限制維持生計的方式...。」上述情況，最可能引起哪一個組織關注？

- (A)國際原子能總署 (B)世界銀行集團  
(C)勵馨基金會 (D)無國界醫生。

47. 金曲歌王青峰的前經紀人林暉哲，因不滿青峰違反「詞曲版權授權合約」，公開演唱已授權的音樂著作，到台北地檢署提告。北檢於去年 2 月間認定青峰違法，將他及所屬哈里坤的狂歡公司起訴。請問：上述檢方認定歌手違反何種法律而遭到起訴？

- (A)商標法 (B)民法 (C)著作權法 (D)專利法。

48. 現代科技被應用在許多方面，就環境生態而言，可用於復育保育類動物，如臺北木柵動物園經過七次人工授精，終於讓大貓熊圓圓生下圓仔，成為臺灣第一隻貓熊寶寶。人工授精的復育技術應該是屬於下列哪一類科技發展？

- (A)生物科技 (B)資訊科技 (C)人工智慧 (D)環保科技。

49. 網路與智慧型手機的普及，訊息流通快速，但在訊息傳遞中，閱聽人卻未對其真偽加以過濾，反而成為散播謠言的幫凶。因此，我們應加強何種觀念以改善此種現象？

- (A)媒體接近使用權 (B)個人隱私的保障  
(C)資訊倫理的建立 (D)傳播媒體的自由。

50. 日本女子團體「AKB48」在亞洲好幾個地區及中國上海都成立姐妹團，成為當今日本最具勢力的女子團體。請問：該團體的作法，屬於下列何者？

- (A)全球在地化 (B)內部成本外部化  
(C)文化融合 (D)分散風險。

109-2-2 九年級第二次段考社會科解答

1-5	C B C B C	26-30	B A A D C
6-10	B A B C B	31-35	A D B C B
11-15	D D B A D	36-40	D C D C B
16-20	D C C B D	41-45	D A B A B
21-25	A C B D C	46-50	D C A C A