

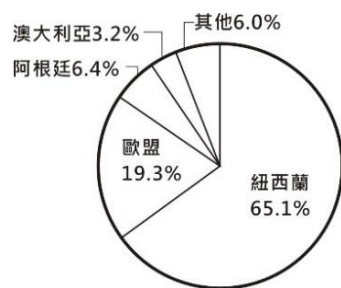
【地理科：第 5-6 章，第 1-13 題，每題 2.5 分；共 32.5 分】

1. 2016 年上映的迪士尼動畫《海洋奇緣》，是以玻里尼西亞島群為背景的故事。請問：故事創作背景所在位置為何？
 (A)東半球太平洋島國 (B)赤道以北太平洋島國
 (C)西半球太平洋島國 (D)南迴歸線以南太平洋島國。

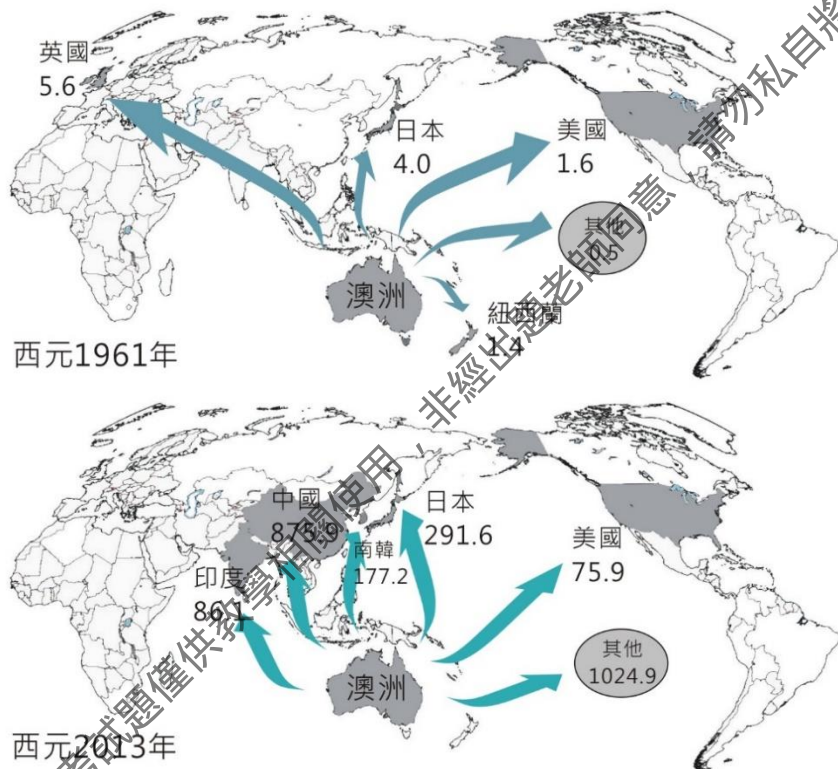
2. 關於兩極地區的特色比較，下列何者正確？

項目	北極	南極
(A)主體結構	歐、亞、非所圍繞海域	高原陸塊
(B)氣溫特徵	世界最寒冷地區	科學家終年登島研究
(C)原住民族	因紐特人	南島語族
(D)天然資源	石油、天然氣	大多未被探知

3. 紐西蘭奶粉品牌眾多且行銷世界各地，是世界許多國家對奶粉的首要選擇，廣告詞常標榜品質純淨、乳源來自紐西蘭。附圖是 2016 年全球全脂奶粉主要出口來源國，請問：此與該國哪些環境的特色最有關聯？



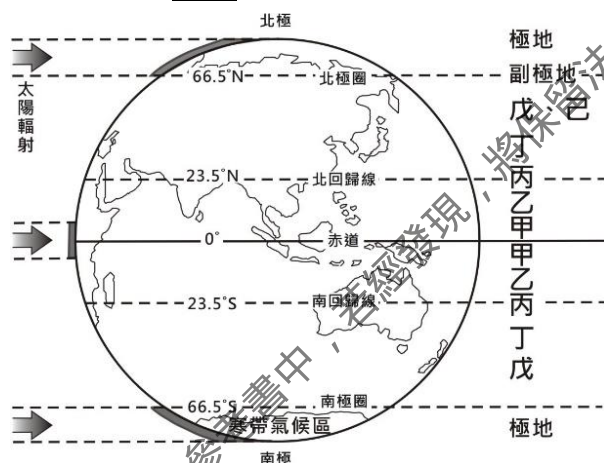
- (甲)人口不多 (乙)工業發達
 (丙)溫帶海洋性氣候 (丁)距主要市場遠 (戊)季節與北半球相反。
 (A)甲丙丁 (B)甲丙戊
 (C)乙丙丁 (D)乙丁戊。
4. 從澳洲西元 1961~2013 年出口國家轉變圖，可知近年紐、澳積極脫歐入亞，其主要原因為何？
 (A)原住民來自亞洲 (B)歐洲在世界經濟板塊失去優勢
 (C)受歷史背景影響 (D)地緣關係，亞洲經濟勢力崛起。



5. 《新聞標題》你不知道的 ，零確診下的上帝水族箱！位在密克羅尼西亞島群的邦交國，享有「一生必去的 50 個地方之一」頭銜，孕育超過 1,500 種的多樣魚類、700 種的珊瑚和海葵。

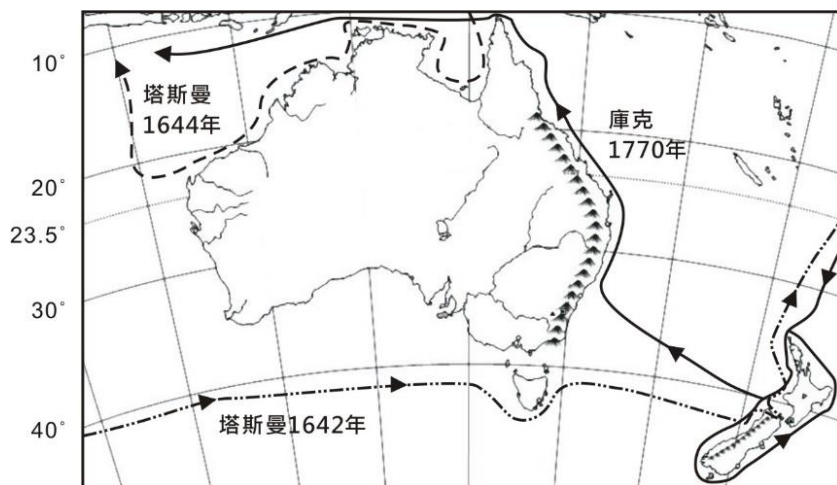
為了保護海洋生態，2009 年全球第一個設立鯊魚保護區的国家；2020 年更頒布防曬乳使用的禁令，且其專屬經濟區的 80 % 的海域，禁止捕魚和其它海洋活動，包括採礦和魚翅。請問：依上文所敘述的国家，應該是指？
 (A)東加 (B)帛琉 (C)大溪地 (D)紐西蘭。

6. 紐西蘭得天獨厚，整體可再生能源發電比例為 85%，並訂定於 2025 年達到 90%的目標，紐國綠黨加入聯合政府後，進一步要求於 2035 年達到 100%。請問：該國最有優勢的再生資源為？(甲)太陽能 (乙)地熱 (丙)風力 (丁)石油 (戊)水力
 (A)甲乙丙 (B)甲丁戊 (C)乙丙戊 (D)丙丁戊
7. 全球各地的氣候依緯度高低，大致可分為熱帶氣候、溫帶氣候與寒帶氣候三大類型，如附圖所示。請問：下列有關氣候類型的敘述，何者錯誤？



- (A)熱帶氣候區：甲雨林、乙莽原、丙沙漠
 (B)溫帶氣候區：丁地中海型、戊海洋性、己大陸性
 (C)夏雨冬乾：乙、丁、己
 (D)終年有雨：甲、戊
8. 由於全球人口增加，加上追求經濟高度發展、人類對自然資源消耗加劇，導致全球暖化、區域氣候異常等氣候變遷現象。請問：全球哪些現象的改變，與暖化較無直接關係？
 (A)歐洲白人大量移入紐西蘭 (B)北極熊覓食更加困難
 (C)中高緯度海域航海的安危 (D)吐瓦魯居民被迫遷移

※ 紐澳地區自然景觀豐富，不同地區的地景差異甚大。1642 年荷蘭探險家塔斯曼就已經發現紐、澳，但在其航海日誌中對她們的評價極低，認為不值得千里迢迢去經營開發；1770 年英國的庫克船長循過去的紀錄來到此區時，卻有極高的評價，此後英國即積極殖民。附圖為塔斯曼及庫克兩位探險家的航行路線。請問：(9~10 題)



9. 參考附圖中塔斯曼與庫克的航海路線，他們可能會看到哪些特殊的地理景觀？
 (甲)冰河的海岸地形 (乙)原住民聖地烏魯汝
 (丙)熱帶海域大堡礁 (丁)夏威夷島火山熔岩
 (A)甲乙 (B)甲丙 (C)乙丙 (D)乙丁。
10. 塔斯曼 1644 年的航海路線，曾經經過哪些氣候類型？
 (甲)熱帶莽原氣候 (乙)熱帶乾燥氣候 (丙)溫帶地中海型氣候
 (丁)夏雨型暖溫帶氣候。
 (A)甲乙 (B)甲丁 (C)乙丙 (D)丙丁。

※ 澳洲人幾乎年年都要對抗森林大火,但這次卻從 2019 年 9 月一路燒到 2020 年,延燒 4 個多月,火吞面積約 4.7 個臺灣,如附圖所示,致 5 億動物死亡。專家分析認為,創紀錄的高溫、持續的乾旱和強風,共同造成災難性的火災。請問:(11~13 題)



11. 澳洲 6 個州中有 4 個受影響,尤其是東部海岸受災最嚴重,已波及當地人口密集區。請問:下表中哪一個城市的氣候類型,屬於東部海岸地帶?(A)甲 (B)乙 (C)丙 (D)丁。

城市\月份		1	2	3	4	5	6	7	8	9	10	11	12
甲	℃	32	31	33	34	30	30	29	32	33	34	32	31
	mm	384	356	450	125	28	5	3	5	6	60	154	270
乙	℃	27	27	26	25	21	18	18	19	22	24	27	28
	mm	160	167	143	78	62	50	47	45	48	75	161	150
丙	℃	34	31	28	25	23	20	19	18	17	20	23	25
	mm	10	14	22	40	75	170	165	134	78	58	25	20
丁	℃	3	4	8	14	19	23	27	27	23	18	12	6
	mm	39	58	81	102	114	152	128	133	155	60	51	34

12. 這場大火吞沒了南澳阿得雷德山丘(Adelaide Hills),使該地區三分之一的產業遭到衝擊。請問:當地主要產業應是?

- (A)潛水觀光業 (B)熱帶作物咖啡生產區
(C)集約稻米區 (D)地中海農業葡萄園區。

13. 2019 年是澳洲有史以來最熱、最乾燥的一年,比起往年的均溫高出 2°C。數月後,澳洲人在各地發起遊行,要求政府必須採取積極的行動來遏止氣候變遷。請問:澳洲那些產業活動最容易產生溫室效應氣體,而導致暖化?

- (甲)礦業 (乙)農業 (丙)畜牧業 (丁)觀光業
(A)甲乙 (B)甲丙 (C)乙丁 (D)丙丁。

【歷史科:第 5-6 章,第 14-26 題,每題 2.5 分;共 32.5 分】

14. 翔翔是一個喜歡歷史的學生,於是經常上網搜尋關於歷史相關的關鍵字,以下幾點是他搜尋的關鍵字「英國」、「乾隆」、「馬加爾尼」、「跪拜禮儀」等,請問上述中的英國來到中國後,可能提出哪些要求?

- (A)清廷與英國修訂條約
(B)鴉片合法化
(C)清廷解除通商限制
(D)清廷購買絲綢、瓷器

15. 1997 年,在儀隊舉槍禮之後,英國皇室查爾斯王子說道:「這重要而特殊的儀式標誌著香港在一百五十多年的英國統治之後,交還中國。」英國於哪一個條約當中取得了香港?

- (A)天津條約 (B)北京條約
(C)南京條約 (D)辛丑條約

16. 晚清以來,沈葆楨到臺灣建設砲台,劉銘傳在臺建設鐵路、郵政,曾國藩在上海設江南製造局,北京設各國總理事務衙門等,這些新政的推動可能與下列何事有關?

- (A)戊戌變法 (B)鴉片戰爭
(C)瓜分風潮 (D)自強運動

17. 南京條約被喻為中國與外國簽訂的第一個不平等條約,當中包含了「領事裁判權」與「協定關稅」等內容,請就以上兩項內容的定義,判斷下列敘述何者正確。

- (A)協定關稅:與外國政府協商稅率,中國至他國銷售貨品時也同樣享有一樣稅率
(B)協定關稅:外國需與中國協定稅率,不能自己訂定出口稅率
(C)領事裁判權:僅限外國大使在中國犯罪時,不受中國法律管束
(D)領事裁判權:外國僑民在中國犯罪時,由該國領事根據該國法律處理。

18. 中國受到英法聯軍之役的刺激,決定推動自強運動,並以軍事建設以及富國利民為目標,但最後仍舊被視為一場失敗的改革。請問:下列何者並非其失敗的原因?

- (A)守舊人士無法接受新政,表示反對
(B)過度偏重制度層面的改革,忽略器物的重要
(C)地方官員各自為政,使改革成效有限
(D)改革內容未做好整體的規畫。

19. 詹天佑先生有「中國近代工程之父」的尊稱,曾負責修築中國京張鐵路,在西元 1881 年他獲得美國的耶魯大學土木工程學位,是當時中國派外留學的第一批學生。他被派往美國留學,可能是受惠於哪項改革?

- (A)自強運動
(B)明治維新
(C)戊戌變法
(D)庚子後新政。

20. 中國東南方省分與該戰爭的發動國家簽訂了東南互保條約,因此這次的戰爭並未波及到經濟精華的東南地區,然而也看出了當時中國內部各自為政,無心團結共同對抗外敵,這場戰爭應為下列何者?

- (A)英法聯軍 (B)八國聯軍
(C)日俄戰爭 (D)甲午戰爭。

21. 張幼儀曾為徐志摩的妻子,他們倆的婚姻是依照家中長輩旨意結為連理。在徐志摩留學英國期間,結識了林徽音,最終徐志摩決定休妻,與張幼儀離婚。張幼儀在離婚後憑藉自身努力與家人的支持,前往德國留學,回國後曾於東吳大學教授德文。張幼儀生長的時代,女性生活可能有下列哪些轉變?

- (A)更多受教育的機會→女子無才便是德
(B)聽從媒妁之言→擁有更多受教育的機會
(C)遵從男尊女卑→成為傳宗接代的婦女
(D)獲得更多工作機會→更多受教育的機會。

22. 此時的大清官員曾稟報太后:「革命軍隊已有五萬之眾,我軍前將士皆無戰意。」又說:「要想保全皇室,除了走共和的道路之外,恐怕沒有別的好辦法了。」清廷政府會遭遇上述困境乃是因為之前有許多有識之士紛紛向朝廷建言改革,然而清廷改革只限於表面功夫。更被當時的人譏諷為「皇族內閣」,對朝廷感到失望後,因而轉向革命。請問此失敗的改革應為下列何者?

- (A)立憲運動 (B)戊戌變法
(C)明治維新 (D)自強運動。

23. 賽馬活動在英國歷時已久, 其中尤以一年一度舉辦的阿斯科皇家賽馬會最具代表性, 為英國夏季最引人矚目的社交活動之一, 已有三百多年歷史, 這個專業的賽馬會更以盛裝與時尚而聞名, 一直是名媛貴婦展現服飾裝扮的秀場。請問賽馬的生活娛樂, 在中國最早可能出現在哪個地區?
(A)伊犁 (B)天津 (C)上海 (D)北京。

題組題

班上同學們在做歷史課的報告, 討論著關於晚清以來的戰爭與影響:

周禹: 這場戰爭, 是西方國家對於中國的第一次大規模戰爭, 這場戰爭之後, 也打開了中國的大門, 打破中國的閉關自守, 更標誌著中國近代史的開端。

文成: 該場戰爭的乃因中國的排外與仇外情緒高漲, 於是當政者借助著民意的力量對外國宣戰, 希望將外國人趕出中國。

曾馨: 該場戰爭的失敗及北洋軍隊的覆滅, 使得中國的國際地位一落千丈, 此外戰後條約對中國的民生經濟造成衝擊, 更使中國成為西方國家瓜分的對象。

佩于: 該場戰爭, 是中國首都的第一次淪陷, 敵人還在首都裡燒殺搶奪, 更燒毀「圓明園」, 迫使中國開放更多的通商口岸, 使得外國勢力由沿海深入至內陸。

24. 哪位同學所說明的戰爭, 使得中國決定「師夷之長以制夷」, 學習西方的船堅砲利?
(A)周禹 (B)文成
(C)曾馨 (D)佩于。
25. 哪位同學所說明的戰爭, 使中國重新思考改革的方向, 並且引起學生上書要求改革?
(A)周禹 (B)文成
(C)曾馨 (D)佩于。
26. 請將此四位同學介紹的戰爭, 根據其發生的先後順序排列應為下列何者?
(A)周禹→佩于→曾馨→文成
(B)周禹→佩于→文成→曾馨
(C)周禹→文成→曾馨→佩于
(D)佩于→周禹→曾馨→文成。

【公民科:第 5-6 章, 第 27-40 題, 每題 2.5 分; 共 35 分】

27. 因精神障礙或心智缺陷, 以致不能表達自己的意思, 法院得因本人、配偶、四等親內的親屬、檢察官或社會福利機構做出何種決定, 令其不得參與投票選舉?
(A)監護宣告 (B)褫奪公權
(C)強制就醫 (D)依法入監。
28. 許多訊息可能包含了事實與意見的組合, 請問下列何種報導內容僅有事實?
(A)中部某校有 12 名學生接種流感疫苗後, 出現發燒、手抖等不適症狀, 彰化縣衛生局指出, 其中 5 人陸續到秀傳醫院就醫, 目前仍有 4 名學生在醫院接受觀察
(B)我國在此次新型冠狀病毒肺炎疫情成功防疫, 口罩國家隊功不可沒, 輸出國外的口罩上印有 MIT, 不僅提高企業能見度與臺灣形象, 臺灣在全球半導體產業地位也更加穩固

- (C)市立動物園石虎日前逃脫, 至今仍未尋獲, 園方上周清點動物數量時, 發現石虎不見, 立即展開搜尋, 至今尚未發現。此案顯見園方近期管理發生嚴重漏洞, 應對管理流程重新審視
(D)下半年經濟逐步回溫, 10 月失業率為 3.8%, 為近 7 個月以來新低, 也是連續 3 個月下降, 景氣回升帶動房市熱絡, 未來經濟發展可期。

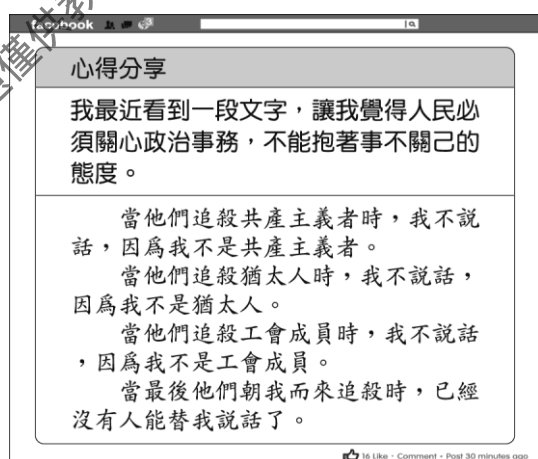
29. 在現代民主社會中, 媒體識讀是不可或缺的公民素養之一, 請問此能力最接近下列何種?
(A)溝通與協調能力 (B)互助與共好的團隊合作能力
(C)自主性思考與懷疑能力 (D)關懷弱勢與服務群眾。
30. 知名網紅阿滴透過 youtube 向國際社會發出台灣應該加入世姐衛生組織的聲明, 可見網路的發達使得現今許多平臺都可作為公共發聲的管道, 使得人們參與社會的機會變得容易且多樣化。請問: 依據上述下列敘述何者正確?
(A)現今人們成為被動的訊息接收者
(B)現今公共意見的形成需要更多時間與金錢投入
(C)發聲的平台與管道多元, 投票成為最不具有影響力的政治參與方式
(D)閱聽人更應培養思辨能力, 對訊息抱持懷疑。
31. 冰瑩在某專題報導中時看到以下內容:「置入性行銷」就是把廣告隱藏在新聞或戲劇之中, 以自然而然的方式, 讓我們在看戲劇或新聞的時候, 不知不覺接觸到廣告資訊, 進而支持某個政府政策或購買某項商品。戲劇中放入好的置入性行銷可能帶來流行風潮, 但新聞中的置入性行銷, 也就是俗稱的-「業配文」, 被許多學者與資深媒體人認為嚴重影響新聞倫理及專業, 因此我國一律禁止廣電媒體的新聞節目採用置入性行銷, 以保護新聞專業繼續被大眾信任。根據上文, 以下推論何者正確?
(A)置入性行銷是媒體沒有善盡查證的工作, 帶有偏見與刻板印象的作為
(B)在戲劇當中的置入性行銷可以為廣告商、製作單位和閱聽人創造三贏
(C)閱聽人可以透過主動製播節目來避免接觸置入性行銷
(D)台灣網友發起聲援台灣加入世界衛生組織就是一種置入性行銷, 應該被禁止。
32. 「同溫層」(Echo chamber) 已成為讓人難以忽視的網路傳播議題, 因為在社交媒體中, 由於公司都希望用戶在平台中停留更久, 從而獲取更多廣告收入。透過使用過濾氣泡(filter bubble) 的方法, 加上以大數據分析用戶的個人習慣、瀏覽和搜索記錄等, 給予使用者想要的或是觀點一致的結果, 畢竟接受到與自己價值觀、立場和想法接近的資訊能夠減少摩擦, 使得社群中的人感到輕鬆自在, 傾向繼續留在圈子中, 接收自己想要的資訊。Google、Facebook、Netflix 等公司, 都是使用類似的方法停留讀者, 因此從「網路看世界」的網友們最終可能都是資訊偏食的受害者...。若你是作者, 應該在文中最後如何提醒閱聽人?
(A)盡量避免使用網路, 報章雜誌的真實性較高
(B)使用多種載具(手機、平板、電腦), 避免用同一個 ip 位置上網, 可避免個人立場的曝露
(C)能夠多閱讀不同立場的資訊, 可脫離同溫層的資訊偏食
(D)同溫層多用主觀價值, 因此可以更清楚看待事件本身。

33. 電影《九發子彈》改編自 2017 年 8 月 31 日的阮國非案，當時新竹民眾通報有人打破車窗偷車，員警陳崇文到場後發現一名越南籍移工阮國非赤裸上身。警員想請他配合調查，卻發生衝突。警方試圖以影棍、辣椒水制伏阮國非未果，阮國非衝向警車試圖坐進駕駛座，陳崇文以為阮國非想偷走警車，12 秒內連開 9 槍，最後阮國非失血過多不治。檢察官相驗時發現，阮國非體內含高濃度酒精與安非他命，當時應已無力攻擊還手，2019 年法官宣判，警員陳崇文舉動「不符合比例原則」，判處 8 個月徒刑定讞，不過考量是陳崇文是新手員警，再加上單獨值勤緊張、判斷失準，因此緩刑 3 年。這起案件引發社會對東南亞移工的關注，而下圖為當年各報對此案報導的標題。此事件中，針對「媒體的處理」敘述何者正確？

越籍外勞行竊不成換搶警車 遭警開 9 槍打死 (聯合udn 8/31)
怪力襲警！男打歪兩警棍 3 噴辣椒水也無效 (TVBS 8/31 影音)
逃逸 3 年行竊被逮！朝警丟石還想搶警車 (TVBS 8/31 影音)
偷車被逮踹義警 連警棍也折彎 (蘋果即時 9/1 影音)
逃逸移工「襲警又奪車」遭開 9 槍不治亡 網狂讚：支持！(東森 9/1)

- (A)媒體陳述多方說法，標題沒有隱藏性歧視
(B)標題一針見血，能吸引閱聽人注意
(C)媒體報導偏向弱勢族群，質疑警方開槍正當性
(D)先強調「外勞」身份再連結「行為」，雖然是事實性陳述，但加深了對該族群的刻板印象。
34. 依照我國相關法律的規定，下列哪組公職人員全部是由人民直接選舉產生的？
(A)監察委員、大法官、新北市市長
(B)瑞穗鄉長、立法院院長、總統
(C)新竹市市長、新店區區長、省主席
(D)新北市市長、烏來區區民代表、立法委員。
35. 我國何種投票行為並不採用右圖所列的規定？
(A)縣(市)議員選舉
(B)總統選舉
(C)村里長選舉
(D)立法委員選舉。
36. 若涵十分關心時事，也常和朋友談論各種政治議題，附圖中他分享的內容，應是表達何種概念的重要性？

1. 年滿 20 歲
2. 具有中華民國國籍
3. 戶籍設在選舉區 4 個月以上
4. 未受到監護宣告



- (A)尊重民意帶來混亂影響政府權威
(B)人民應提升政治參與的意願
(C)人民投入政治活動將不利於國家統治
(D)保持沈默是人民最好的選擇。

37. 瑞士平均一年有四次公投，被稱為世界上最愛公投的國家。瑞士公投分為二階段，第一階段是公投提案審查，在台灣主要政黨缺乏互信基礎情況下，根本難以實施。第二階段是提案立場相反各方歷時超過一年的辯論交鋒，這在台灣的公投也難得見到。選委會公告連署的公投案，到投票日只有 40 天，雖有公聽會與電視辯論，但辯論深度卻不足。或許台灣直接公投制度缺少的，正是瑞士直接民主體系設計中，強迫政黨與民間，以及各個對立方之間，必須直接對面溝通的機制。下列敘述，何者與作者的觀點最為相近？
(A)我國公投主要問題是媒體並未實現公共角色
(B)我國的公投完全賦予人民選舉與複決權
(C)應直接複製瑞士的制度才能讓我國公投更加完善
(D)我國公投制度仍有改善空間，可以參考國外作法，加以修正。
38. 姿妤整理公職人員選舉罷免法中被選舉人應具備條件的年齡條件(如下圖)，應如何填入才是正確？
(A)甲-台北市市議員、五峰里里長
(B)乙-桃園市復興區區長、馬公市市民代表
(C)丙-新北市長、立法委員
(D)丁-行政院長、總統。

23	甲	26	乙	30	丙	40	丁
----	---	----	---	----	---	----	---

39. 根據台灣事實查核中心與其他三個利益團體共同製作的《2020 總統大選電視臺報票觀察報告》中，下表節錄部分電視臺開出第一批票數的時間及得票數紀錄。

新聞台	時間	得票數(蔡/韓/宋)
甲	16:02	1/1/0
乙	16:03	127/103/24
丙	16:04	3/3/1
丁	16:04	361/232/50
戊	16:51	87/48/16

根據中選會成員表示，開票所在 16 點宣布投票結束，投開票所人員必須清場，並布置開票場地，擺設桌椅，張貼計票紙，讓監票民眾入場，人員就定位後，才宣布領票數和空白票數，再開票區將一張張選票取出。一系列的行動要在「16 點 02 分」就開出第一張選票「比較難以想像」。針對上述呈現的資料與說法，下列哪一位評論員所下的結論最為適切？

- (A)夏安：媒體提供即時、正確訊息以利民眾了解狀況
(B)玉蒨：媒體並未善盡守門員篩選資訊
(C)立亞：媒體在設定討論議題時兼顧平衡報導
(D)凱甯：媒體內容存在隱藏性的歧視。
40. 承上題，開票過程中往往會聚集許多民眾，監督選務人員是否如實計票，每張選票僅計票一次，並將結果詳實記錄於表單中，維護選舉公正。請問，上述內容符合何項投票原則？
(A)普通原則 (B)直接原則
(C)無記名原則 (D)平等原則。

109-1 第三次段考社會科解答

1-5	C D A D B	21-25	B A C D C
6-10	C C A B A	26-30	A A A C D
11-15	B D B C C	31-35	B C D D B
16-20	D D B A B	36-40	B D A B D

考試題僅供教學相關使用，非經出題老師同意，請勿私自將試題編輯於商用之教科書或參考書中，若經發現，將保留法律