

答案卷作答一律使用黑色墨水筆(不得使用鉛筆、螢光筆、彩色筆、摩擦筆等)，答案卡需用 2B 鉛筆作答

【地理科:第 5-6 課,第 1-17 題,每題 2 分;共 34 分】

1. 火山活動令人恐懼與敬畏，但它所生成的礦產「金礦」，卻讓人為之瘋狂，十九世紀美國的「淘金熱」，即為顯著的例子。請問：美國哪個地區最可能有金礦？

- (A)五大湖區 (B)阿帕拉契山脈
(C)北美大平原 (D)落磯山脈

2. 小慈在地理老師講述北美洲的氣候特徵後，發現美國與臺灣都會發生乾旱，她想進一步了解兩地乾旱的差異，於是做了以下的表格加以比較，請問：表中哪一項敘述正確？

選項	臺灣	美國
(A)發生季節	夏季	冬季
(B)發生地區	西南部	東北部
(C)成因	背東北季風	背西風
(D)影響	易引起森林大火	適合曬鹽

3. 從地名可看出當地的環境特色，或歷史發展脈絡，例如，居住在美洲的印第安人會根據家園的自然特徵來命名，其中又以與水文相關的名字居多，如：「明尼蘇達」是指天藍色的水，「密西根」是指廣闊的湖泊，「亞利桑那」是指小小泉水、水源稀少。請問：亞利桑那州水源稀少的主因為何？

- (A)位於盛行風背風側 (B)沿岸有暖流流經
(C)四週有高山環繞 (D)副熱帶高氣壓籠罩

4. 全球共分成三大洋、七大洲，在地球儀上觀察，若從臺灣出發，穿越地心到地球的另一端，應該會到達哪一洲？

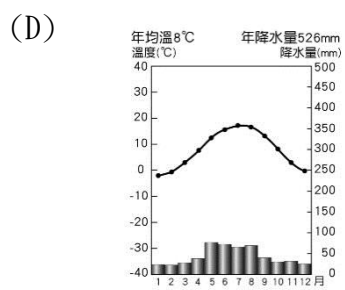
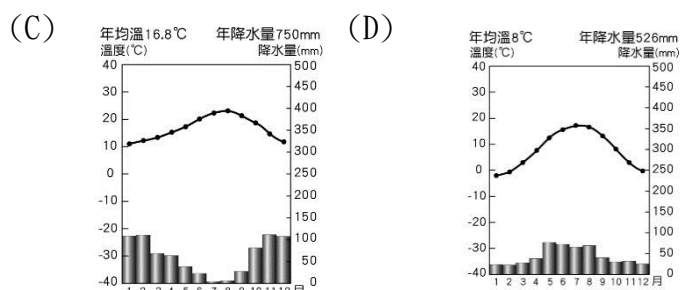
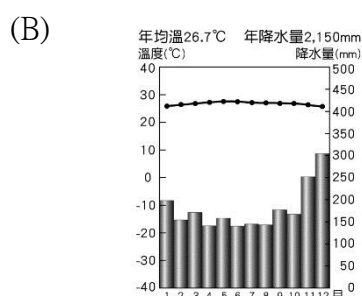
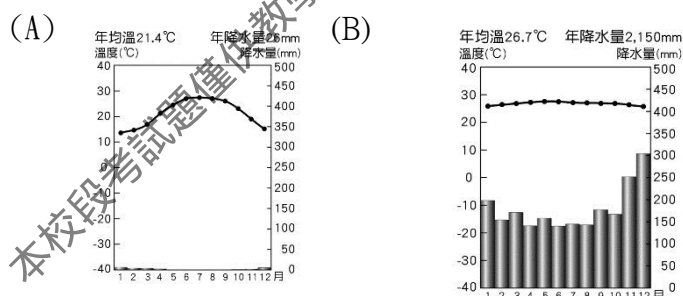
- (A)南極洲 (B)北美洲
(C)中美洲 (D)南美洲

5. 下表為西元 2018 年各國都市化程度的比較，其中，南美洲國家的都市化程度比美國高，與南美洲的哪一特徵最有關係？

- (A)工商業發達 (B)人口總數龐大
(C)城鄉發展不均 (D)政府鼓勵移民

國家	都市人口比例(%)
阿根廷	92
委內瑞拉	88
智利	88
巴西	87
美國	82

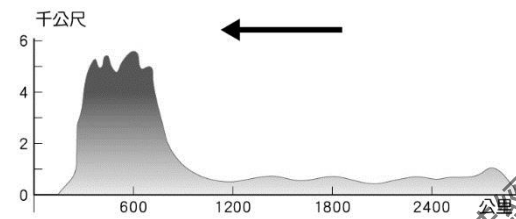
6. 在拉丁美洲，因為人口增加，過度開發土地，導致某種天然植被遭受過度砍伐，也使全球最大的生物基因庫受到破壞。請問：該天然植被應該位於哪一種氣候區？



7. 中南美洲早期曾受歐洲國家殖民統治，殖民國利用當地的氣候發展熱帶栽培業，下列有關此種產業的特色，何者敘述正確？

- (A)耕種的種類多樣化，大量外銷以增加外匯收入
(B)利用機械化耕作的商業性農業
(C)大規模耕種，以輸出農、礦產品為主
(D)易受國際市場市場價格的影響

8. 下圖為南美洲的地形剖面圖，請問：圖上的箭頭方向應該指向哪個方位？ (A)東 (B)西 (C)南 (D)北。



9. 從氣候圖可知，美洲的氣候類型複雜且多樣化，南、北美洲同時有數種相同的氣候類型，如夏雨型暖溫帶氣候、高地氣候、乾燥氣候、溫帶海洋性氣候、溫帶地中海型氣候等，但南美洲缺乏溫帶大陸性氣候，此與下列哪一項因素有關？

- (A)緯度分布 (B)地勢高低
(C)洋流經過 (D)河川流向

◎下圖為北美洲簡圖，請依圖回答 10-11 題：



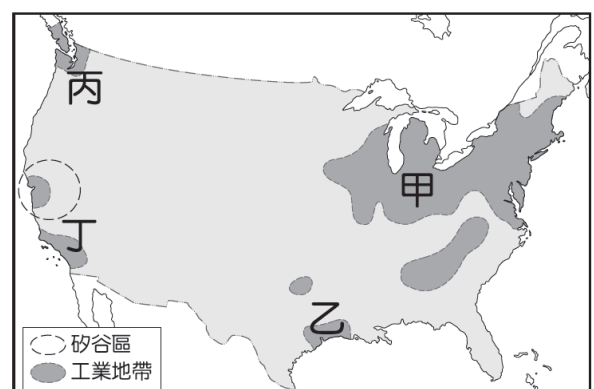
10. 美國在出兵至伊拉克前，為了增加軍隊的戰鬥力，計劃在國內尋找最相似的氣候環境加以模擬，請問：上圖中何處最適合做為美軍訓練之地？

- (A)甲 (B)乙 (C)丙 (D)丁

11. 承上題，該地的氣候成因與下列哪一個地區相同？

- (A)墨西哥高原北部 (B)智利北部
(C)巴塔哥尼亞高原 (D)印度的德干高原

◎美國憑藉其豐富的資源、優越的技術、便利的交通，使國內的經濟高度開發，將農、牧、工、商產品行銷全球，使「美式文化」襲捲全球，影響現代人的消費習慣。下圖為美國主要的工業分布圖，請依圖回答 12-14 題：



答案卷作答一律使用黑色墨水筆(不得使用鉛筆、螢光筆、彩色筆、摩擦筆等), 答案卡需用 2B 鉛筆作答

12. NBA 職籃開賽時, 總會吸引球迷觀賽, 為自己支持的球隊加油喝采。某些職籃球隊的命名, 與當地的產業有很大的關係, 如底特律活塞隊、休士頓火箭隊; 請問: 圖中的「乙」區為美國哪一項產業的研究中心?

- (A)鋼鐵工業 (B)航太工業
(C)電影工業 (D)棉紡織業

13. 圖中的「甲」區為美國重工業聚集的經濟帶, 與哪些因素的關係最密切?(ㄅ)水運便利(ㄆ)陸運發達(ㄇ)礦產豐富(ㄋ)人口眾多; 以上敘述正確的是:

- (A)ㄅㄇ (B)ㄆㄋ (C)ㄅㄆ (D)ㄅㄋ

14. 愷愷的爸爸是新竹科學工業園區的工程師, 由於工作需要, 全家要移民到美國, 為了盡快融入當地的生活, 他們應前往哪一地區居住?

- (A)甲 (B)乙 (C)丙 (D)丁

◎下圖是中南美洲國家的簡圖, 請依圖回答 15-17 題:



15. 古代印第安人所建立的馬雅金字塔, 不但是馬雅文明的重要精神象徵, 同時紀錄著三千年前的神祕傳說。

請問: 哪個國家可以看到馬雅文明的遺跡?

- (A)甲 (B)丙 (C)戊 (D)己

16. 巴拿馬運河是溝通大西洋與太平洋的重要交通孔道, 它也大幅縮短美國東西兩岸的航運里程與時間, 具有極高的經濟效益, 請問: 該運河位於哪個國家境內?

- (A)甲 (B)乙 (C)己 (D)庚

17. 臺灣的地形與氣候適合各種熱帶與溫帶的水果生產, 因此有水果王國之稱; 在彰化栽培巨峰葡萄的李老闆, 想到中南美洲考察當地的葡萄園, 他應該前往圖中哪一個國家?

- (A)丙 (B)丁 (C)戊 (D)己

【歷史科: 第5-6課, 第18-34題, 每題2分, 共34分】

*歷史課進行「啟蒙運動」小組討論。請依同學們的發表內容, 回答18、19兩題:

文懿: 「政府的行政權、立法權和司法權應該分立, 發揮彼此制衡的功能, 以避免專制獨裁的發生。」

天宇: 「國王非專制的主人, 而是國家的第一公僕。」

怡華: 「抨擊教會權威, 主張宗教寬容及言論自由」

小怡說: 「政府不應該隨意干擾或控制經濟, 而要讓市場的競爭主導一切, 國家財富即可增加。」

小香說: 「人生而平等, 生命、自由、財產是不可被剝奪的權利, 如果政府非法破壞人民權利, 人民可以起而反抗。」

小宇說: 「人生而自由, 人民是國家的主體, 政府是基於『社會契約』成立的, 必須為大眾謀福利。」

18. 哪一個人的說法最接近亞當斯密的理論?

- (A)小惠 (B)小香 (C)文懿 (D)小怡。

19. 哪一個人的說法最接近盧梭的理論?

- (A)小宇 (B)怡華 (C)天宇 (D)小怡。

20. 老師指導同學排演「三級會議」的歷史劇, 藉此幫助同學了解法國大革命的經過。請問: 其中哪個角色的臺詞與史實不符?

- (A)教士: 「我們三百人共同屬於第一階級。」 (B)平民: 「我們人數最多, 擁有的票數也最多, 絕對可以革命成功。」 (C)貴族: 「我們和教士站在同一陣線, 為了保護我們自身權益, 所以決定聯手否決平民的主張。」 (D)國王: 「政府負債沉重, 所以召開這次的三級會議。」

21. 共產主義重要思想家恩格斯, 曾針對西元1814~1815年間召開的◎會議說過: 「帝王們分配贓物和獎金, 商量能將革命前的形勢恢復到何種程度, 民族被買進和賣出、分割和合併, 只為符合統治者的利益。」請問: 關於此會議的敘述何者正確?

- (甲)由奧國首相梅特涅所主導 (乙)會議的目的為重劃戰爭後的情勢。而這場戰爭的結果是拿破崙戰敗 (丙)◎會議是指國民會議 (丁)「革命前的形勢」是指法國大革命前歐洲各國皇室的統治 (戊)依循公平與民主原則來重新安排各國土地
(A)甲乙丁 (B)乙丙丁 (C)甲乙丙 (D)甲丙。

22. 1765年殖民地人民召開「印花稅會議」, 會議的摘要如下:

「希望祖國的政治領導人能夠正視近期國會所通過的許多法案, 這對於我們殖民地人民的基本權利與自由所造成的危害以及巨大苦難。……三、英國臣民皆有一項無可置疑的基本保障和權利, 即任何的稅賦在施行前, 均應得到人民的同意, ……五、殖民地人民的代表是由人民自己選舉出來的, 若要執行徵稅法規, 理應由這些代表會議通過。……八、近日國會所通過的美洲印花稅法以及其他許多法案, ……這明顯剝奪了殖民地人民所應得的權利和自由。」從以上文件內容判斷, 下列敘述何者正確?

- (甲)殖民地人民在發表文件的同時已組軍隊, 要求英國政府廢除該法, 並即刻進入獨立戰爭, 宣布脫離英國
(乙)該文件指出甫通過的印花稅法已違背憲法及對殖民地人民的侵害
(丙)英國政府徵收印花稅政策, 喚醒北美殖民地居民的政治自主意識
(丁)從這份文件的內容, 可知印花稅爭議是獨立戰爭的導火線

- (A)甲乙 (B)乙丙 (C)丙丁 (D)甲丁。

23. 有一份英國的歷史文件, 內容如下: 「一、國王不得終止法律的效力; 二、未經國會同意, 國王不得徵稅; 三、國王不得干涉國會議員選舉; 四、國會必須經常集會, 議員享有言論自由; 五、平常維持常備軍, 須經國會同意; 六、臣民有上書君主的權利, 被控犯罪者不得受酷刑虐待。」這份文件公布的背景是 (A)長年戰爭, 增加人民賦稅, 引起反抗

答案卷作答一律使用黑色墨水筆(不得使用鉛筆、螢光筆、彩色筆、摩擦筆等), 答案卡需用 2B 鉛筆作答

(B)為爭奪王位繼承權而戰 (C)國王過於專制, 人民推翻政府 (D)國王與國會意見衝突, 引發革命。

24. 拿破崙帝國盛極一時, 控制著從波蘭到西班牙、荷蘭到義大利的歐洲廣大地區。幾乎實現他征服全歐、稱霸世界的野心, 但是後來卻失敗了。請問下列何者是拿破崙帝國由盛轉衰之關鍵?

(A)1799年, 拿破崙以第一執政的名義實行軍人獨裁統治
(B)1812年6月, 拿破崙遠征俄國, 但卻慘遭失敗 (C)1804年, 反法聯盟趁著拿破崙稱帝, 展開民族之戰, 與法軍進行決戰 (D)1815年意圖再起的滑鐵盧之役。

25.

西元1560年 義大利「自然秘密研究會」成立
西元1603年 羅馬「林琴學院」成立
西元1660年 英國「皇家學會」成立
西元1666年 法國「法蘭西科學院」成立
西元1667年 《齊曼托學院自然實驗文集》出版
西元1667-1672年 法國「巴黎天文臺」成立
西元1700年 德國「柏林科學院」成立

上述資料可作為哪一段歷史課程的補充?

(A)「天才的世紀」, 各地科學研究機構相繼出現, 使得研究成果快速累積 (B)啟蒙時代, 學者對於古典科學理論完全的模仿與學習 (C)十七世紀時顯微鏡、望遠鏡等觀測儀器的發明, 證實「地球中心說」的學說 (D)十八世紀科學家運用新方法與新工具來提出新的觀點。

26. 霍布斯邦在其史學名著《革命的年代》中寫到:「革命的年代是一場新舊交替的雙元大爆發, 舊經濟被碾碎於□□的機器巨輪之下, 舊體制被送上○○的民主斷頭臺, 從此開啟了由歐洲主導的現代世界。」請問□□、○○依序應填入: (甲)科學革命 (乙)工業革命 (丙)美國獨立運動 (丁)法國大革命 (戊)宗教革命

(A)甲乙 (B)乙丙 (C)乙丁 (D)丁戊。

27. 大部分的哲士其實不滿孟德斯鳩有限的貴族體制改革主張, 也不能接受盧梭式的民主觀念, 如此, 他們寄望的乃是在位君主政策上的改弦更張。他們不求削減君主的權力, 只求君主善用王權, 改革政治、經濟、文化等結構, 使其更趨合理。19世紀的歷史學家認為18世紀後半的歐洲大陸是一個「改革的年代」。請問: 下列何者是19世紀歷史學家筆下「改革的年代」的君主?

(甲)普魯士腓特烈二世 (乙)英國查理二世 (丙)俄國凱薩琳二世 (丁)法國路易十四

(A)甲丙丁 (B)乙丙 (C)甲丙 (D)甲乙丙。

28. 1685年, 英王不顧國內的普遍反對, 違背以前政府制定的關於禁止天主教徒擔任公職的法令, 委任天主教徒到軍隊裡任職。此後, 進而任命更多的天主教徒到政府部門、教會去擔任重要職務。1687~1688年, 進一步給予包括天主教徒在內的所有非國教徒信教自由, 並命令英國國教會的主教在各主教區的教壇上宣讀, 引起英國國教會主教們的反彈。下列相關敘述, 何者正確? (A)這位英國國王是查理一世 (B)他在清教徒革命之後被推翻 (C)革命後建立由國會領導的共和國 (D)革命後通過《權利法案》, 確立國會為英國最高權力機構。

29. 資料一: 他雖貴為一國的君主, 卻將自己視為國家的第一公僕, 推行許多開明的改革。他曾說「在我的眼中, 一個窮困的農民和一個最顯赫的公爵或一個最有錢的貴族沒有絲毫高低之別。法律面前人人平等」

資料二: 他興建宏偉的凡爾賽宮, 並嚴密監控人民生活, 全國如同衛星般繞著國王轉動, 他因而被稱為「太陽王」。

資料三: 曾有法王想恢復專制但被推翻掉, 之後總算出現一位第二共和的總統, 但他卻改共和為帝制。

上述資料, 若依「資料內容」出現的先後順序應為何?

(A)資料一、資料二、資料三 (B)資料二、資料一、資料三 (C)資料三、資料二、資料一 (D)資料二、資料三、資料一。

30. 美國學者古德諾在《共和與君主論》一文中提到:「歐洲大國, 第一次為共和之嘗試者, 厥為◎。17世紀中, ◎革命軍起, 國王查理一世經國會審判, 定為叛亂之罪處以死刑。其時乃建立共和制, 號民主政治, 以克倫威爾為監國, 蓋即大總統也。克倫威爾統奉革命軍, 戰勝◎國王, 故能獨操政柄。然◎共和之制, 僅行數年, 終歸失敗……於是捨共和制, 復用君主制……第二次共和之嘗試者, 實為✱。18世紀時, ✱革命既成, 而合眾國之共和制立焉, 夫✱之革命, 初非欲推翻君主也, 其目的但脫◎而獨立耳。」根據上文請問: ◎和✱分別為何?

(A)美國、英國 (B)英國、美國 (C)法國、美國 (D)西班牙、英國。

31. 附圖為某個英國法令的部分規定, 自此法案以後, 國會續通過數次改革。請問: 此法令應為下列何者?

(A)《1832年改革法案》 (B)《大憲章》 (C)《權利法案》 (D)《人權宣言》。

這些城市曾是在中世紀時期的大都市, 在國會有自己的市民代表, 但隨著時代改變而荒廢, 故議席需要減少。空出的163席中, 因工業革命新興的工業城市得到65席。選民資格亦有開放, 更多的中產階級可取得選舉權。

32. ◎指出:「我發現四顆行星, 發現銀河系是一團星體, 這是以前的天文學家未曾觀察到的。借助於我所發明的望遠鏡, 清楚出現在感官前, 古往今來煩擾哲學家們的爭辯, 為我們看到的證據所破除。」請問◎應該是指誰?

(A)培根 (B)牛頓 (C)伽利略 (D)伏爾泰。

題組:「有位學者說: 無論情願與否, 個人特點在一種最耀眼的屬性前面黯然失色。當時, 所有的人都熱衷於擴張、熱衷於發展、熱衷於投資, 他們關心技術進步與生產過程。莫莉茲的工廠有位工人說: 看到莫莉茲操作任何一種工具都是讓人愉悅的, ……。瓦特不知疲倦的試驗他的機器; 還有不知疲倦的追求利潤的阿克萊特, 他總是坐在一輛四馬拉的馬車上, 顛簸的行進在英國糟糕的道路上, 在旅途中他還不忘商業通信。」閱讀上文請回答下列兩題:

33. 上述的情形, 發生在1760年代的英國, 關於最早發生在英國應與下列哪些因素有關? ①英國海外市場廣大 ②英國未發展海外拓殖, 因此可專注於國內工業研究 ③英國的政治安

答案卷作答一律使用黑色墨水筆(不得使用鉛筆、螢光筆、彩色筆、摩擦筆等)，答案卡需用 2B 鉛筆作答

定，能保障工商業的發展 ④英國擁有豐富的煤礦，提供機械所需的原料與動力。

(A)①②③④ (B)①③④ (C)①②③ (D)②③④。

34. 如果你生活在這個時代，你的日常生活中可以見到哪些景象？(甲)人口增加且往大城市集中，出現了「新興的市鎮」(乙)貧民窟中小偷與強盜聚集(丙)先是蒸汽火車行駛各大都市間，接著紡織及其他生產技術有大幅度的改進(丁)鄉村人口稠密，黑死病盛行

(A)甲乙丁 (B)甲乙丙 (C)丙丁 (D)甲乙。

【公民科:第 5-6 章，第 35-50 題，每題 2 分；共 32 分】

35. 范姐姐：「經濟不景氣，最近都沒有演唱會可以辦，公司就沒道義的把我資遣了！我除了人長得漂亮、會唱歌，就沒有其他才能，短期間我一定找不到工作，我家快要喝西北風了，怎麼辦？」慈伶：「政府為保障失業勞工面臨生活的困境，制定法律，只要符合條件的勞工，在失業時可向公立就業服務機構申請失業給付六個月…」

請問根據上述內容，慈伶所說的法律是指下列哪個？

- (A)《性別工作平等法》
(B)《勞動基準法》
(C)《就業保險法》
(D)《社會秩序維護法》。

36. 公民課時，老師請同學說明我國現行「夫妻財產制」的要點。其中何者的說法正確？

- (A)小辰：「夫妻財產應採取女權至上的原則來分配。」
(B)小安：「夫妻可以約定將雙方財產合併並共同管理。」
(C)小佩：「遇繼承時，由兒子繼承分配財產。」
(D)小熙：「妻子使用金錢須經由丈夫同意。」

37. 新聞「薪資待遇不符期望 46%失業者不願屈就，導致失業率有攀升現象…」請問下列哪些人處於失業狀態？(甲)小謙因公司組織重整而被裁員(乙)祥瑞大學畢業迄今還未找到適合的工作(丙)小彥奉派到東南亞籌設新工廠(丁)小柔因公司倒閉而失去工作

- (A)甲乙丙
(B)甲丙丁
(C)甲乙丁
(D)乙丙丁

38. 開源節流是可以協助家庭經濟規劃的好方法。而開源是指廣開財源，請問下列何種方式屬於「開源」？

- (A)養成每天記帳的習慣
(B)當用則用，當省則省
(C)善用各種的理財工具
(D)培養良好的消費習慣。

39. 以下是近來幾個國家失業率的示意圖——

地區	失業率
甲國	15.7%
乙國	2.8%
丙國	4.9%
丁國	3.7%

根據資料判斷，請問哪國家必須快點創造更多就業機會，否則可能爆發嚴重的竊盜以及貧窮問題？

- (A)甲國 (B)乙國
(C)丙國 (D)丁國

40. 表是凱凱家一年來理財投資結果的分析表。根據表中內容判斷，凱凱家所選擇的各項投資工具中，何者的投資風險

可能最高？

- (A)基金
(B)債券
(C)存款
(D)股票

投資工具	投入金額 (萬元)	獲利金額 (萬元)
股票	50	1
債券	100	2
基金	20	1
存款	25	0.5

41. 佑恩很注重理財規畫，也蒐集了各項理財工具的相關資料與家人討論。在佑恩所蒐集的資料中，有一項理財工具主要是投資人將自己的資金交由專業經理人代為管理操作，以謀求獲利。這最可能是下列哪項理財工具？

- (A)股票 (B)共同基金 (C)債券 (D)定期存款。

42. 經濟學上的投資報酬率是指獲利金額占投資成本的比例。附表為五峰公司四位投資者運用相同的投資理財工具，投資時的資金與一年後的獲利情形——

	投資金額	獲利金額
(A)阿寬	50000	1000
(B)俐文	30000	2100
(C)小御	100000	2000
(D)小池	150000	1000

根據資料判斷，其中哪位投資者的報酬率最高？

- (A)阿寬 (B)俐文 (C)小御 (D)小池。

43. 「不要將所有的雞蛋放在同一個籃子裡」，這句話說明投資時不要全部集中在某一項理財工具，指的是下列何種概念？

- (A)分散風險原則 (B)比較利益法則
(C)需求法則 (D)供給法則。

44. 好厲害炸雞店由三位國中好友小意、心凌、慈伶各出資 1/3 組成並負責經營，最近因為三人吵架的原因，好厲害炸雞面臨拆夥解散的命運。根據上述內容判斷，好厲害炸雞屬於下列何種企業經營型態？

- (A)獨資企業 (B)合夥企業
(C)無限公司 (D)股份有限公司。

45. 鄭浩是一名財經研究所的學生，他這學期以「股份有限公司」為主題撰寫學期報告，下列哪項內容不會出現在他的報告中？

- (A)股東採股份制，對公司的責任有限
(B)公司每年必須召開股東會
(C)股東依所認股份分享利潤及承擔風險
(D)股東必須以個人財產負無限清償責任。

46. google 公司號稱為全美最寵愛員工的公司，不僅工作採責任制、員工還可以在上班時間去運動、免費甜點咖啡全日使用、以及選擇在任何一個地方工作，自由無束的辦公空間，園區內更響應綠色環保，大家都騎腳踏車至各部門，更會在閒假日舉辦各種旅遊活動。請問公司老闆以上的做法屬於何種展現？(A)增加企業利益 (B)促進社會公益(C)善盡社會責任 (D)努力正派經營

47. 台灣人愛吃海鮮，早期海裡的魚似乎補不完，但隨著氣候變異、過度捕撈、管理不足等問題，台灣沿近海的漁業資源枯乏，致使台灣成為「無魚之島」，專家表示建議大家要盡量購買常見種、養殖魚，不買大型海洋魚類。請問專家的建議符合哪種概念？

- (A)降低漁民捕撈的機會成本 (B)減少漁業的外部效果

答案卷作答一律使用黑色墨水筆(不得使用鉛筆、螢光筆、彩色筆、摩擦筆等)，答案卡需用 2B 鉛筆作答

(C)永續經營有限的漁業資源 (D)加強企業的社會責任

48. 新聞報導：「環保局表示，大樹龍目社區長期致力於環保相關工作，積極推動環境維護、資源回收與垃圾減量及山林守護等皆不遺餘力，秉持「生產-流通-消費-回收-再利用」觀念，將農業廢棄物製作堆肥及環保酵素，讓生產所造成的碳排放降至最低；除了減碳外，在區域綠化部分面積更達 1 萬 2 千平方公尺，累積固碳量約 23 萬公斤。」根據上述內容判斷該新聞所強調的內容最符合下列何種神？

(A)追求利潤 (B)永續發展
(C)分散風險 (D)國際分工。

49. 新聞：「位於德國柏林的連鎖超市 Metro 正在實驗一種室內垂直農場計畫，目的是直接在超市內種植蔬果，做為販賣的商品，讓消費者隨時都能買到新鮮、在地化的食品。」請問，民眾可以在連鎖賣場買到當地蔬菜的做法，與下列哪一環保標章的理念最為相近？



(A)



(B)



(C)



(D)

50. 面對全球氣候大變遷的惡化，中華民國企業永續發展協會發起「健康低碳樂生活，全民一起 1 運動」。這項運動也同時贏得上百企業的熱烈響應，將加入推動低碳的行列。第一年的減碳目標達 18.15 萬噸，第 2 年達到 36.3 萬噸。並在每月 1 日這一天加入推動「健康蔬食、少吃紅肉」的觀念，從健康減碳的角度來改變飲食習慣。根據內容判斷，該運動主要在喚醒人們的何者意識？

(A)自我意識提高 (B)社區意識增加
(C)族群意識提升 (D)環保意識增加。

109 學年度第一學期第三定期評量 九年級 社會科答案

1-5:DCADC	6-10:BDBAC	11-15:CBADA	16-20:BDDAB
21-25:ABDBA	26-30:CCDBB	31-35:ACBDC	36-40:BCCAA
41-45:BBABD	46-50:CCBCD		

考試題僅供教學相關使用，非經出題老師同意，請勿私自將試題編輯於商用之教科書或參考書中，若經發現，將保留法律