

【地理科:第 5-6 章, 第 1-13 題, 每題 2.5 分; 共 32.5 分】

1. 天氣與氣候會影響當地居民的生活型態及產業活動。


請問:下列何項描述較符合「天氣」的定義?

- (A) 基隆冬季時經常陰雨綿綿, 又冷又濕
- (B) 花東地區在夏季時, 常受到颱風侵襲
- (C) 高雄午後下了一場雨, 變得涼爽舒適
- (D) 恆春地名的由來是因為當地四季如春

2. 喬巴參加攀登玉山主峰的活動, 享受人生的第一次攻頂經驗, 他半夜就起床就從登山口出發, 順利的在當天中午抵達玉山主峰, 但沿途見到有些登山的同好出現耳鳴、頭暈、噁心等症狀。請問:這是因為從平地到高山, 哪項天氣要素產生的什麼變化造成的身體不適?

- (A) 氣溫上升 (B) 氣壓降低 (C) 溼度變低 (D) 風速增強

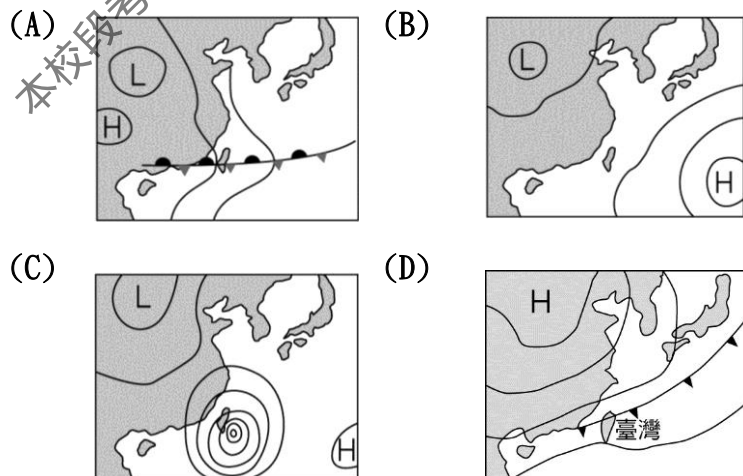
3. 《2020.12.18》北部狂雨長達兩個多月, 幾乎不間斷的雨勢, 也讓不少臺北、宜蘭的民眾崩潰, 抱怨「衣服都曬不乾」、「下雨下得好厭世」, 但南部卻是好天氣, 12 月上半月也是有一滴雨都沒下的地方, 像是臺南、高雄、屏東沿海地區, 真的是「一個台灣, 兩個世界。」請問:



上文所述是說明北臺灣的天氣, 在這段時間出現了什麼狀況?

- (A) 迎東北季風降雨偏多 (B) 熱帶低壓帶來狂風暴雨
- (C) 對流旺盛造成強降雨 (D) 冷暖氣團交會陰雨連綿

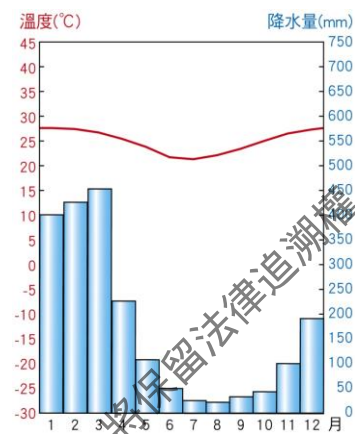
4. 2016 年 1 月 24 日, 一場臺灣氣象預報形容宛如「霸王級」的寒流襲擊臺灣北部, 許多平常不會出現下雪的地方, 皆被白雪覆蓋住, 臺灣瞬間成了「冰番薯」。根據臺灣氣象局統計, 新北市汐止、烏來、新店, 臺北市貓空、北投, 苗栗縣南莊, 桃園龍潭、楊梅等低海拔山區皆出現飄雪情形。就連臺北市內的氣象站, 也測到冰霰飄落。 請問: 下列哪一幅天氣圖最符合上文所提到的天氣概況?



5. 承上題, 不論是高山下雪或平地下冰霰(多在下雪前或下雪時出現的白色小冰粒, 質軟易碎), 都屬於水循環中的哪一階段? (A) 蒸發 (B) 凝結 (C) 降水 (D) 逕流

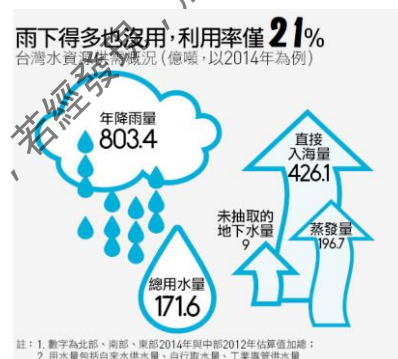
6. 小毅蒐集某地區的氣溫及降水量變化, 再將觀察數據繪製成統計圖如附圖。請問: 下列有關該地區的氣候之敘述, 何者最為正確?

- (A) 位於北半球地區
- (B) 年溫差約為 18℃
- (C) 降雨集中在夏季
- (D) 年降水量不足 500mm



7. 附圖為水資源保育研討會場的宣傳海報, 上面顯示臺灣水資源短缺和臺灣河川的哪一特性最有相關?

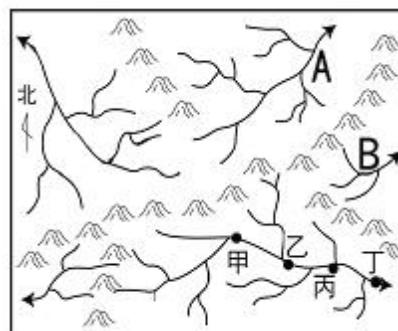
- (A) 東西分流、河川短小
- (B) 冬夏流量變化大
- (C) 坡陡、流急
- (D) 年輸沙量高



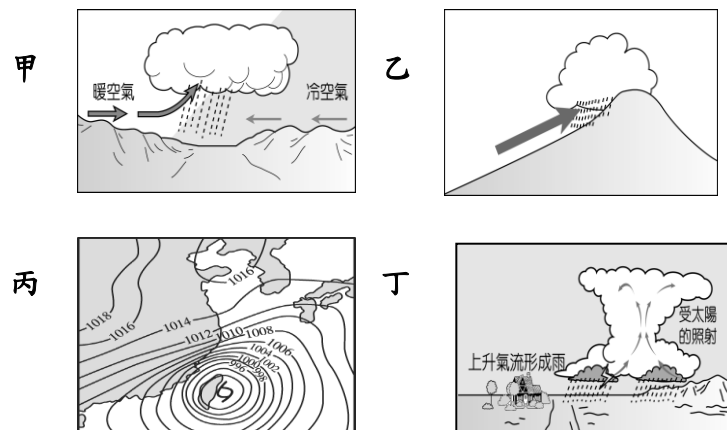
8. 彎彎打算和同學到臺北參加跨年, 並前往欣賞美麗絢爛的 101 大樓煙火, 為了能清楚觀賞到美麗的煙火而不被當時的風向所產生的煙霧阻擋, 彎彎他們應該選擇位在 101 大樓的哪個方位? (A) 東北方 (B) 東南方 (C) 西北方 (D) 西南方

9. 降水落到地表後, 會如何流動呢? 「水往低處流」, 長期的水流在地表切割出水系與流域。附圖為某地的水系、流域示意圖。下列的敘述何者正確?

- (A) 圖中應該有 4 個水系
- (B) 甲地涵蓋的集水範圍最大
- (C) 丁地汙染狀況可能最嚴重
- (D) A 河流的流向西北方



※當空氣遇冷, 使空氣中的水氣凝結成液體或固體, 從空中落下的現象, 稱為降水, 附圖為台灣的四種降水的類型示意圖。請依圖回答 10~11 題:



10. 2020-10-14 聯合報: 今年臺灣梅雨季短且無颱風登陸, 導致豐水期降雨量極少, 面臨 56 年來最嚴峻乾旱。臺灣水庫多賴降雨來補充水資源, 根據各水庫管理局統計顯示, 水庫蓄水量的水位通常在隔年春初時節到達最低, 而不得已啟動用水管制, 但今年桃竹苗地區至 10 月初因應水情吃緊, 農委會宣布 1.9 公頃的農田將實施停灌, 因水稻正值抽穗期, 再過 1 個多月即可收成, 突然要停灌引發農民強烈的抗議。請問:

答案卡需用 2B 鉛筆作答。

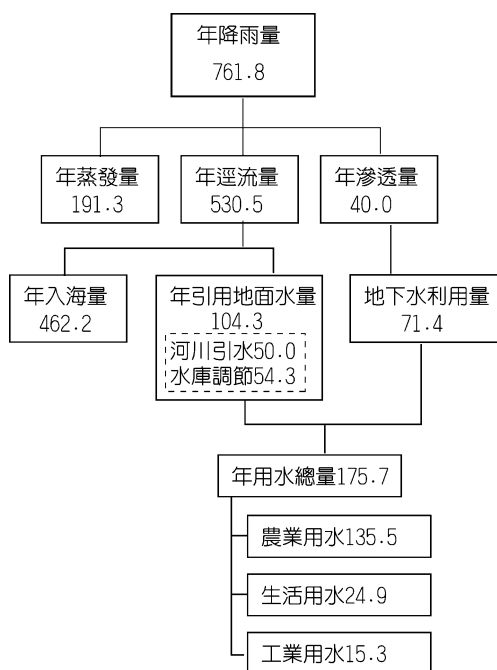
上文中重要的灌溉水源最可能是指下列哪兩種降雨？

- (A) 甲乙 (B) 甲丙 (C) 乙丙 (D) 乙丁

11. 氣候諺語是過去先民們憑著長時間觀察天氣狀況，加上經驗累積所歸納出來而流傳下來的智慧結晶。下列何句諺語最能指出丁圖的天氣型態？

- (A) 東北風，雨太公
(B) 西北雨，落不過田埂
(C) 未吃五月節粽，破裘不甘放
(D) 正月寒死龜，二月寒死牛，三月寒死播田夫。

※河川是人們重要的水源，許多城市的發展都與河川有關。人們對水的需求愈來愈大，河川治理和水資源開發等問題更值得我們關心。附圖為臺灣某年水資源利用結構示意圖，請問：



12. 附圖中顯示臺灣水資源利用的最大問題最可能是下列何者？

- (A) 每年降水量偏低 (B) 生活用水太過量
(C) 水資源開發不足 (D) 逕流入海量較大

13. 附圖中地下水滲入量低於地下水的抽用量，可能會造成什麼環境危害？

- (甲) 土石流 (乙) 地層下陷 (丙) 海水倒灌 (丁) 海岸線後退
(A) 甲乙丙 (B) 甲乙丁 (C) 甲丙丁 (D) 乙丙丁

【歷史科:第 3-4 章，第 14-26 題，每題 2.5 分；共 32.5 分】

14. 馬偕醫生由加拿大長老教會派遣來臺宣教，當他抵達高雄時南部的英國長老教會已經有不錯的發展，他便在此觀摩，並且學習臺語，其後轉赴淡水展開佈道工作。馬偕醫生不僅重視傳教，對教育及醫療的推廣更是不遺餘力，設立臺灣北部第一所西醫院「偕醫館」，展開一般性的醫療與福音工作，在臺近三十餘年，設立教會達六十餘所，更以拔牙兩萬顆以上聞名。請問，馬偕醫生來臺灣的契機是在哪一場戰爭之後？

- (A) 英法聯軍
(B) 清法戰爭
(C) 牡丹社事件
(D) 鴉片戰爭

15. 承上題，馬偕醫生在臺期間經歷下列哪場戰爭，並提供相關的醫療資源來醫治病患？

- (A) 英法聯軍
(B) 清法戰爭

(C) 牡丹社事件

(D) 鴉片戰爭

16. 清帝國時期來臺的移民艱苦創業，除因疾病、天災死亡者外，也有參與械鬥，起事而身亡者，或是抵抗外族入侵而陣亡者，若未接受奉祀，終將成為「孤魂」。民間認為，若任由無祀孤魂遊蕩，其將化為厲鬼對陽間人類作祟。因此除七月「普渡」廣祀孤魂野鬼外，民間還為那些渡臺打拚絕嗣無祀的移民立了許多「廟宇」，以安撫祖先同鄉好兄弟之靈魂。這些「廟宇」的名稱，一般統稱為下列何者？

- (A) 土地公廟
(B) 三山國王廟
(C) 王爺廟
(D) 有應公廟

17. 水利設施是清帝國時期開墾臺灣的重要設施，其中在臺第一個興建的水圳位於彰化縣，由於該圳是由施世榜於 1709 年開始籌款興建，故原名「施厝圳」，也因灌溉面積涵蓋八個堡（「堡」為當時行政區域名稱），因此稱為「八堡圳」，就地理位置來看，該圳取用水源應為下列哪一條溪流？

- (A) 大肚溪
(B) 濁水溪
(C) 新店溪
(D) 秀姑巒溪

18. 阿峰正在統整歷史課堂上臺灣在各個時代的主要出口商品與銷售區域筆記，然而有一部份的內容阿峰搞混了，請就下列內容幫阿峰檢查，哪一個出口商品或銷售區域內容錯誤？(A)

甲 (B) 乙 (C) 丙 (D) 丁

| | 荷西時期 | 鄭氏時期 | 清領前期 | 清領後期 |
|------|----------|-------|-----------|-----------|
| 出口商品 | 鹿皮、蔗糖、稻米 | 鹿皮、蔗糖 | (甲)鴉片、棉製品 | (乙)茶、糖、樟腦 |
| 銷售區域 | 世界各地 | 世界各地 | (丙)中國 | (丁)世界各地 |

19. 加禮宛事件，源於蘇花北路的開通與土地利益的競爭。因應道路修築的進度，官方公告拓墾政策，吸引許多宜蘭士紳或冒險家注目，漢人開墾勢力對加禮宛田園的覬覦，造成利益衝突，導致事件發生。該事件發生的原因之一，應為清政府施行何種政策導致？

- (A) 劃界封山
(B) 渡臺禁令
(C) 開港通商
(D) 開山撫番

20. 寒假將至，喜歡歷史的小五想到來規劃家族旅遊的路線圖，這次他選擇了「清末的臺灣商業」為主題來當作旅遊規劃，下列何者不應該出現在他的旅遊選項當中？

- (A) 臺北基督長老教會李春生紀念教堂
(B) 新竹金廣福墾號公館
(C) 臺南德記洋行
(D) 臺北大稻埕古蹟導覽

21. 生長在臺南的阿妹與家人到臺北出遊，高速公路上出現了一些指示牌，指示牌上寫著「林鳳營」，過一會兒又看到了「頭份」、最後看到了「五股」的標誌，對地名很好奇的阿妹想知道這些地名的由來可能來自哪些時期，請為他解答上述三個地

名依順序分別來自哪些時期？

- (A) 荷西時期、鄭氏時期、清領時期
- (B) 鄭氏時期、鄭氏時期、清領時期
- (C) 鄭氏時期、清領時期、清領時期
- (D) 鄭氏時期、清領時期、荷西時期

22. 大甲西社事件是清帝國統治臺灣期間，原住民抗官事件尤其嚴重的一次，就其原因而言，應為下列何種原因導致原住民起兵對抗？

- (A) 官府長期指派沉重勞役
- (B) 官府默許漢人侵墾土地
- (C) 官府設立社學消滅原住民傳統
- (D) 官府要求原住民遷離原居住地

23. 小白的阿公很喜歡用諺語來跟小白講古，有一次講到了清帝國時期的幾個諺語，「一個某，卡好(贏)三個天公祖」、「有唐山公，無唐山媽」、「羅漢腳無某無猴」，這三個俗諺都反映出臺灣當時的社會情況有哪一情況？

- (A) 族群之間械鬥頻繁
- (B) 渡海來臺的祖先勇於冒險犯難
- (C) 男多女少人口比例失衡
- (D) 渡海來臺離鄉背井的鄉愁

24. 開港通商後，原先居住在近山丘陵的北部客家族群的社會地位逐漸提升。客家族群地位的提升與下列何者最有關係？

- (A) 稻米種植技術提升，開始於山區耕種，產量大增
- (B) 買辦興起，客家人善於經商成為地方富商
- (C) 協助政府開山撫番，打擊原住民反抗勢力
- (D) 茶葉、樟腦的生產多在山地丘陵，因而累積財富

25. 「開臺進士」鄭用錫曾寫下一篇〈勸和論〉，白話文如下：

「……區分族類的禍害，再沒有比臺灣更嚴重了，臺灣是個五地雜處的多元族群，自林爽文動亂以來，有人把族群分為閩、粵兩類，又有人把族群分為漳、泉兩類，自從分類的觀念興起，人們的元氣卻被剝奪殆盡，戰爭的災禍越激烈，村落城市多成為廢墟……」依據上文，寫下這篇文章的目的應為下列何者？

- (A) 勸導讀書人和平、奮鬥、救中國
- (B) 勸導大家團結，以便反清復明
- (C) 勸導民眾不要族群械鬥
- (D) 勸導統治者以和為貴，善待人民

26. 承上題，依照「開臺進士」判斷，當時鄭用錫寫下這篇〈勸和論〉的時候，應為下列何者身份？

- (A) 讀書人
- (B) 買辦
- (C) 大墾戶
- (D) 郊商

【公民科:第 5-6 章，第 27-40 題，每題 2.5 分；共 35 分】

27. 原住民族很多年輕人因為教育或工作的關係，移居到都會區，獨留長輩在部落生活。屏東縣萬安部落設置健康廚房，由族人志工掌廚，提供部落老人營養餐食，同時也有公益專車載送長輩至醫院就診。上述萬安部落的措施，最符合「原住民族部落活力計畫」中的哪一項目標？

- (A) 發展部落經濟產業，促進部落就業機會
- (B) 營造民族生活環境，建構部落安全場域
- (C) 落實部落會議組織，奠定原住民族自治基礎

(D) 強化生活照顧功能，推動健康部落生活。

28. 林小宥正在檢視我國重視人權的具體表現。請問：下列哪一則會是他所蒐集的資料？

- (A) 五峰國中歷屆男學生與女學生會考成績差異
- (B) 國內企業雇用身心障礙員工
- (C) 國立大學與私立大學的比例
- (D) 新店地區進行人口普查。

29. 下列關於原住民族的敘述，何者錯誤？

- (A) 豐年祭是重要傳統文化，代表原住民族對神靈的感謝
- (B) 為達到永續發展的目標，原住民族與大自然和諧共存
- (C) 原住民族有 16 族之多，且領袖的產生方式並無差異
- (D) 原住民族具共享互惠、共工互助的精神。

30. 位於新店溪，以阿美族族人為主要成員的溪洲部落，是新北市都會區都市邊緣的原住民族部落。1981 年族人開始自力造屋建造家園，逐漸形成聚落。1995 年，在地方政府的輔導下，部分住戶遷入新店區的中正國宅。但因部落的生活型態與國宅空間差異極大，許多居民不願遷村，因此組成自救會，展開反迫遷的抗爭行動。請問溪洲部落族人的反迫遷抗爭，可說明下列何種意義？

- (A) 族人為復振部落傳統文化，不願搬離原居住部落
- (B) 族人透過公民參與爭取部落權益
- (C) 族人大多以土地為自治的基礎
- (D) 政府強勢且不尊重原住民族的傳統生活，族人當然要抗爭到底。

31. 我國受到「男尊女卑」、「男主外，女主內」的傳統觀念影響，使得女性在許多方面遭受不平等對待。近年來《民法》多次修正，將原本只有男性享有的權利，讓女性亦能享有，例如遺產繼承權、夫妻財產處分權、未成年子女管教權等。根據上述，下列說明何者正確？

- (A) 義務教育普及，導致女性地位高於男性
- (B) 經由法律實踐性別平權，保障人性尊嚴
- (C) 為促進性別平權，要求男女升遷機會相同
- (D) 社會環境變遷，女性社會地位與相關權益早已凌駕男性。

32. 關心國際新聞的吳小安，跟同學分享了下則新聞：「美國一個黑人男子弗洛依德 (George Floyd) 被商店老闆檢舉疑似使用一張 20 元偽鈔，而白人警察在逮捕過程中，以單膝將其壓頸 5 分多鐘，導致弗洛依德死亡。事件過程被拍下公布，人們看到弗洛依德不斷呼救「我無法呼吸」(I can't breathe.)，但警察不為所動。事件之後，大規模的示威抗議從明尼亞波利斯市開始，「黑人的命也是命」(Black lives matter) 的口號再度成為焦點。」請問根據上述內容，下列何種看法較為正確？

- (A) 不管任何種族，都應該得到同等對待
- (B) 人權應受到普遍性的保障，但犯罪的人不需要擁有人權
- (C) 為維護社會秩序，政府必須強勢執行公權力
- (D) 黑人犯罪率高，警方只是依法行使職權。

33. 人權已成普世價值及國際互動基本準則，下列哪一項政策無法達到維護人權的實質效果？

- (A) 監獄提供受刑人醫療照護
- (B) 老師處罰學生，必須要確實了解事情的始末或讓學生寫下自述書
- (C) 犯錯的學生，罰青蛙跳繞操場
- (D) 犯罪嫌疑犯，有權拒絕夜間偵訊。

答案卡需用 2B 鉛筆作答。

34. 邱小維舉了以原住民族的生活經驗，做為自然資源永續發展的例子，下列哪一例子最恰當？

- (A) 噶瑪蘭族傳承香蕉絲編織技藝
- (B) 春天正值動物生預期，族人禁止在春天狩獵
- (C) 將獵捕到的動物共同分享，平均分配
- (D) 部落領袖扶養老人和幼童。

35. 讓每個人獲得基本的人權保障是國際共識，請問何者為人權保障的核心價值？

- (A) 民主法治
- (B) 自由民主
- (C) 公平正義
- (D) 人性尊嚴。

36. 有位部落青年作家在接受採訪的時候說：「我正試著以文字記錄部落裡的點點滴滴。過去族裡的長輩都是透過口耳相傳來互通訊息，但若能透過文字，就能傳遞給更多在外生活的族人以凝聚認同感，也讓後代族人在學習傳統文化時有更相關的資料可以參考。」請問，這位部落青年作家所思考的問題較可能是下列何者？

- (A) 如何讓部落永續經營
- (B) 如何破除不平等待遇
- (C) 如何提升原住民的人權與尊嚴
- (D) 如何推動部落現代化。

37. 呈上題，此位部落青年的態度，最能展現何種意義？

- (A) 推動族群文化改革
- (B) 放棄部落傳統思維
- (C) 關心認同自身文化
- (D) 贊同漢人主流文化價值。

38. 林小翰在街頭看到一幅景象，如附圖所示。請問：民眾抗議的訴求應與下列哪一議題有關？

- (A) 重視人權保障
- (B) 要求司法正義
- (C) 要求性別平等
- (D) 重視言論自由。



39. 我國是以哪一項法律作為維護人權的最高保障？

- (A) 《世界人權宣言》
- (B) 《兒童權利公約》
- (C) 《公民與政治權利國際公約》
- (D) 《中華民國憲法》。

40. 大學畢業的江小吾，在求職過程中，覺得公司的相關規定並不公平，有差別待遇。」下列分別是四家公司的規定，請問哪一家可能就是江小吾面試的公司？

- (A) 公司應徵的送貨員，必須有駕照
- (B) 公司設置哺乳室，僅限女性使用
- (C) 公司的童工不得上大夜班
- (D) 公司雇用的女性員工懷孕後，必須自動離職。

109 學年度第一學期第三次七年級社會科定期評量解答

| | | | |
|-------|-------|-------|-------|
| 1-5 | CBADC | 6-10 | CCACB |
| 11-15 | BDDAB | 16-20 | DBADB |
| 21-25 | CACDC | 26-30 | ADBCB |
| 31-35 | BACBD | 36-40 | ACADD |

本考試題僅供教學相關使用，非經出題老師同意，請勿私自將試題編輯於商用之教科書或參考書中，若經發現，將保留法律